

10. 강한 기공확산 저항(Strong pore diffusion resistance) 영역에서 촉매반응이 진행되고 있다. 두께가 2cm인 평판(flat plate)형 촉매의 Thiele 계수(Thiele modulus)는 40이다. 두께가 1cm인 촉매의 유효성 인자(Effectiveness factor)는? (단, 반응속도상수와 확산계수는 상수이다.)

- ① 0.025
② 0.05
③ 0.1
④ 0.2

11. 플러그흐름 반응기(PFR)에서 $A \xrightarrow{k_1} R \xrightarrow{k_2} S$ 의 단분자형 비가역 연속 1차반응이 일어나며, 부피변화율 $\epsilon=0$, 속도상수는 $k_1=1$, $k_2/k_1=2$ 이다. A 의 반응기 유입 농도가 $C_{A0}=1.0\text{mol/L}$ 인 경우, R 의 최대 농도[mol/L]는?

- ① $C_{R, \max} = 0.25\text{mol/L}$
② $C_{R, \max} = 0.33\text{mol/L}$
③ $C_{R, \max} = 0.50\text{mol/L}$
④ $C_{R, \max} = 0.67\text{mol/L}$

12. 순수한 기체 A 를 이용하여 고체 촉매 표면에서 다음의 단계를 거치는 반응을 진행한다. A 의 초기분압을 증가 시킴에 따라, A 의 초기 소모속도가 선형적으로 증가한다면 <보기>에서 속도결정단계는?

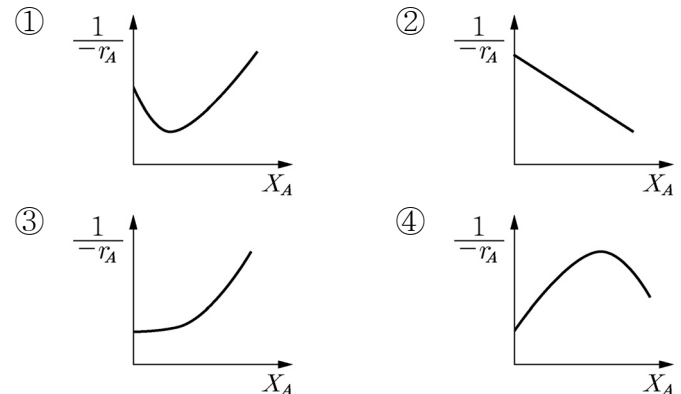
- <보기>—
- 단계 1 : $A + S \rightleftharpoons A \cdot S$ (A 의 흡착단계)
 - 단계 2 : $A \cdot S \rightleftharpoons B \cdot S$ (표면반응단계)
 - 단계 3 : $B \cdot S \rightleftharpoons B + S$ (B 의 탈착단계)

- ① 단계 1
② 단계 2
③ 단계 3
④ 단계 2와 3

13. 유체 반응물로 둘러싸인 다공성 촉매입자의 유체-고체 반응의 속도결정단계에 영향을 미치는 입자크기가 동일 전환율에 도달하는 시간(t)과 입자크기(R)와의 관계를 나타낸 것 중 '화학반응 지배'를 나타낸 것은?

- ① $t \propto R^{1.5 \sim 2.0}$
② $t \propto R^{2.0}$
③ $t \propto R^{1.0}$
④ $t \propto R^{0.5}$

14. 반응물 A 와 미량의 R 을 반응물로 진행하는 $A + R \rightarrow R + R$ 인 자동촉매반응(autocatalytic reaction)에서 A 의 전환율(X_A)과 반응속도($-r_A$)와의 관계에 대한 그래프로 가장 옳은 것은?



15. $A \rightarrow B$ 인 기상 발열반응이 단일 혼합흐름 반응기(CSTR)에서 진행된다. 500K의 순수한 A 가 반응기로 공급되어 전환율 50%를 얻었다면 반응기 온도[K]는? (단, A 와 B 의 열용량은 $20\text{cal/mol} \cdot \text{K}$ 으로 동일하고, 500K에서 반응열 ΔH_r 은 -2000cal/mol 이며, 교반기에 의한 일은 무시할 수 있다.)

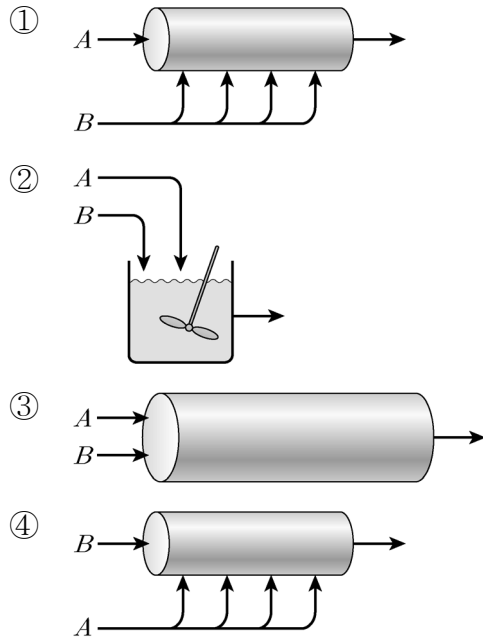
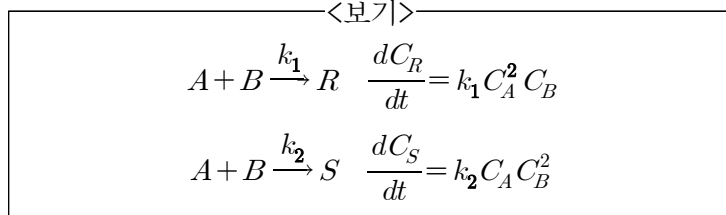
- ① 800K ② 650K
③ 600K ④ 550K

16. 수용액에서 <보기>의 효소(enzyme, E)와 기질(substrate, S)이 포함된 반응이 보기와 같이 진행되며, 이 반응에 대한 반응속도식을 $-r_s = \frac{V_{\max}(S)}{K_M + (S)}$ 와 같이 미카엘리스-멘텐식(Michaelis-Menten)으로 나타낼 수 있다. 이에 대한 설명으로 옳지 않은 것은? (단, W 는 물, P 는 생성물, $E \cdot S$ 는 효소-기질 복합체, (S) 는 기질(반응물)의 농도, K_M 은 미카엘리스 상수를 나타낸다.)

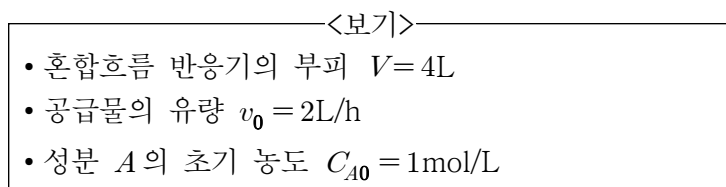
- <보기>—
- $E + S \xrightarrow{k_1} E \cdot S$
 - $E \cdot S \xrightarrow{k_2} E + S$
 - $E \cdot S + W \xrightarrow{k_3} P + E$

- ① K_M 은 반응속도가 최대속도일 때의 기질의 농도이다.
② K_M 은 단일 시스템에서 기질에 대한 효소의 인력을 나타낸다.
③ K_M 은 $\frac{k_3(W) + k_2}{k_1}$ 로 나타낼 수 있다.
④ $k_3(W)$ 은 전환수(turnover number)를 나타낸다.

17. <보기>의 병렬 반응에서 생성물 R 을 보다 선택적으로 생성하기 위한 반응기 형태로 가장 적합한 것은?

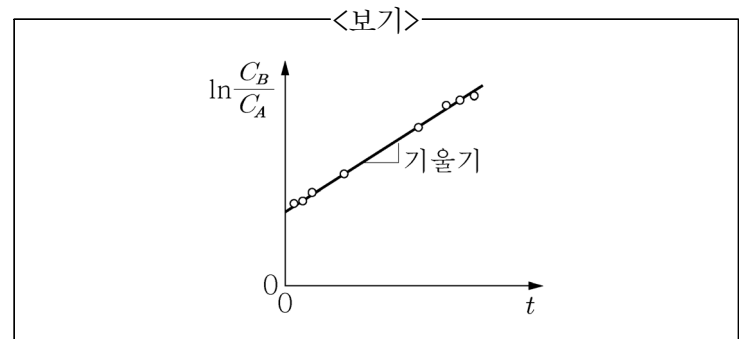


18. 혼합흐름 반응기(CSTR)에서 등은 1차 비가역 기상 반응($A \rightarrow 3R$)이 진행되고 있다. 공급물이 50%의 A 와 50%의 불활성물질로 구성되어 있고 전환율이 80%일 때 <보기>의 조건에서 반응속도상수 k [h^{-1}]는?



- ① 3.6h^{-1}
 ② 2h^{-1}
 ③ 1.8h^{-1}
 ④ 0.4h^{-1}

19. 액상 비가역 2차반응($A+B \rightarrow R$)을 회분식 반응기(Batch reactor)에서 진행하면서 반응시간에 따른 반응물 A 와 B 의 농도 변화를 관찰한 결과, 두 반응물의 농도 비(C_B/C_A)와 반응시간(t) 사이의 관계가 <보기>와 같았다. 기울기에 대해 가장 옳게 표현한 것은?
 (단, 반응 전 A 와 B 의 농도는 각각 $C_{A0} = 2\text{mol/L}$, $C_{B0} = 4\text{mol/L}$ 이며, k 는 반응속도상수이다.)



- ① $0.5k$
 ② k
 ③ $2k$
 ④ $4k$

20. $A \rightleftharpoons B$ 인 기상 기초반응을 순수한 A 를 이용하여 회분식 반응기(Batch reactor)에서 진행하였다. 400K에서 평형전환율 50%, 800K에서 평형전환율 80%를 얻었다. 이 반응의 반응한 A 의 반응열은? (단, R 은 기체상수이며, A 와 B 의 열용량은 동일하며, 반응열은 반응 온도와 무관하다.)

- ① $400R \times \ln 0.25$
 ② $400R \times \ln 4$
 ③ $800R \times \ln 0.25$
 ④ $800R \times \ln 4$

이 면은 여백입니다.