

1. $f(t)$ 를 라플라스 변환한 결과 <보기>와 같은 식을 얻었다. 이로부터 구한 $f(t)$ 로 옳은 것은?

<보기>

$$F(s) = \frac{3s-1}{s(s-1)^2(s+1)}$$

- ① $te^t + e^{-t} - 1$ ② $te^t - e^{-t} - 1$
 ③ $te^{-t} - e^t - 1$ ④ $-te^t - e^{-t}$

2. 전달함수 $\frac{-1}{s+1}$ 을 갖는 공정을 PI제어기,

$G_c(s) = K_c \left(1 + \frac{1}{\tau_I s} \right)$ 로 제어할 때 페루프 제어계의 극값을 -3과 -4로 지정하여 제어기를 설계하였다. 이때 K_c , τ_I 값으로 가장 옳은 것은? (단, 센서와 밸브의 전달함수는 1로 가정한다.)

- | | | | |
|---|----------------------|---|----------------------|
| | $\frac{K_c}{\tau_I}$ | | $\frac{K_c}{\tau_I}$ |
| ① | -6 2 | ② | 6 2 |
| ③ | -6 0.5 | ④ | 6 0.5 |

3. 가장 느린 응답을 보이는 공정의 전달함수는?

- ① $\frac{1}{6s+2}$ ② $\frac{2}{2s+1}$
 ③ $\frac{5}{10(s+1)}$ ④ $\frac{1}{2s+10}$

4. <보기>와 같은 전달함수를 갖는 2차계의 계단응답 특성 중 시간상수 τ 에 영향을 받지 않는 것은?

<보기>

$$G(s) = \frac{K}{\tau^2 s^2 + 2\tau\zeta s + 1}, \zeta < 1$$

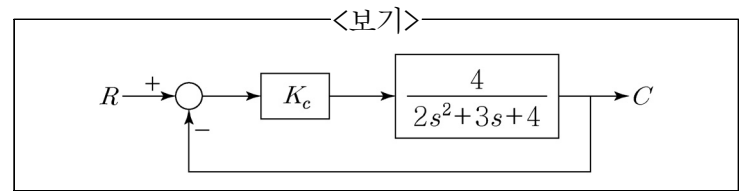
- ① 피크 시간(time to first peak)
 ② 오버슈트(overshoot)
 ③ 상승 시간(rise time)
 ④ 주기(period)

5. 1차계 $G(s) = \frac{2}{4s+1}$ 에 경사입력 $U(s) = \frac{0.1}{s^2}$ 이 적용

되었다. 상당한 시간이 경과한 후에 시간 t 에 따른 출력 $y(t)$ 의 기울기 근삿값은?

- ① 0.1 ② 0.2
 ③ 0.4 ④ 0.8

6. <보기>의 되먹임 루프에서 R 에 단위계단 입력이 주어졌을 때, 오프셋이 $\frac{1}{4}$ 이 되는 비례제어 이득 K_c 값은?

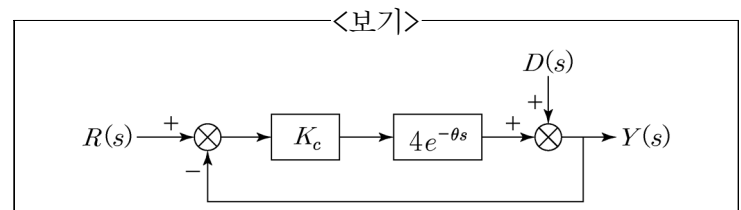


- ① 1 ② 2
 ③ 3 ④ 4

7. 제1요소의 진폭비와 위상각이 각각 AR_1 , ϕ_1 이고, 제2요소의 경우는 AR_2 , ϕ_2 인 두 개의 1차계 요소들을 직렬로 연결하였을 때 얻어지는 총괄 AR 과 총괄 ϕ 의 값은?

- ① $AR_1 \times AR_2$, $\phi_1 + \phi_2$
 ② $AR_1 + AR_2$, $\phi_1 \times \phi_2$
 ③ $AR_1 \times AR_2$, $\phi_1 \times \phi_2$
 ④ $AR_1 + AR_2$, $\phi_1 + \phi_2$

8. P제어기를 가진 <보기>와 같은 피드백 제어시스템에서 설정값을 바꾼 후에 공정 출력 변수에 주기 10분을 갖는 지속적인 진동(sustained oscillation)이 일어났을 때, K_c 와 θ 값[분]은? (단, $K_c > 0$ 이다.)



- | | | | |
|---|----------------------|---|----------------------|
| | $\frac{K_c}{\theta}$ | | $\frac{K_c}{\theta}$ |
| ① | 0.25 5 | ② | 1 10 |
| ③ | 4 5 | ④ | 5 10 |

9. 페루프 제어시스템의 상대적 안정성 및 과도성능은 s-평면상 특성방정식의 페루프 근의 위치와 직접적인 관계가 있다. 매개변수 변화에 대한 s-평면상의 근의 궤적을 그리는 도표적인 방법으로, 매개변수의 변화에 대한 시스템 근의 감도를 추정할 수 있고, 도표적인 정보를 주며 개략적인 그림으로 시스템의 안정성 및 성능에 관한 정보를 얻을 수 있는 방법은?

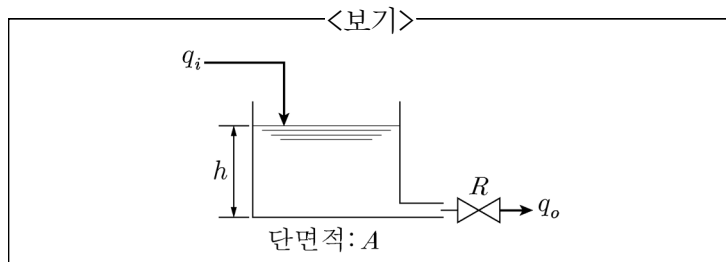
- ① Nyquist 판별법
 ② Newton-Raphson 판별법
 ③ Routh-Hurwitz 판별법
 ④ Root Locus 판별법

10. 특성방정식이 <보기>와 같을 때, 계의 안정성 판별 결과로 가장 옳은 것은?

<보기>
 $s^3 - 3s + 2 = 0$

- ① 안정하다.
② 불안정하고, 양의 중근을 갖는다.
③ 불안정하고, 서로 다른 2개의 양의 근을 갖는다.
④ 안정하고, 3개의 양의 근을 갖는다.

11. <보기>와 같은 액위 탱크의 모델에 대한 식으로 옳은 것은? (단, 여기서 q_i 와 q_o 는 각각 입력과 출력 부피 유량[L/min]이며, h 는 탱크 액체의 액위[m]이다. R 은 액체가 출구쪽의 밸브를 빠져나갈 때 발생하는 유동 저항으로, $R = \frac{h}{q_o}$ 의 관계를 가진다. 탱크의 단면적은 A 이고 밀도는 일정하다고 가정한다.)



- ① $A \frac{dh}{dt} + Rq_o = q_i$
② $A \frac{dh}{dt} + \frac{1}{R}q_o = q_i$
③ $A \frac{dh}{dt} + Rh = q_i$
④ $A \frac{dh}{dt} + \frac{h}{R} = q_i$

12. Input dynamics를 갖는 <보기>의 1차계에 크기 (magnitude)가 M 인 계단 입력을 가하였을 때 overshoot가 발생하는 조건 및 이 경우 $\frac{dy}{dt}$ 의 부호는?

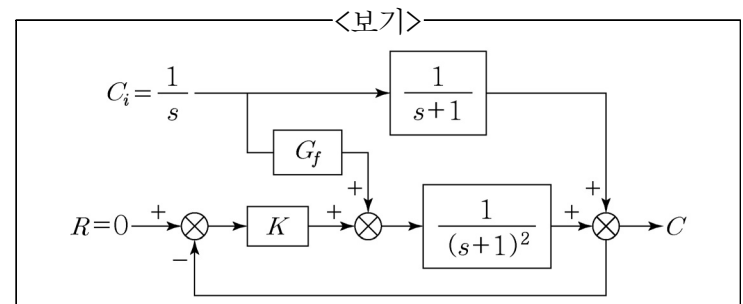
<보기>
 $\tau_1 \frac{dy}{dt} + y = K \left(x + \tau_a \frac{dx}{dt} \right) \quad \text{at } t=0, x=y=0$

- ① $\tau_1 > \tau_a > 0$, $\frac{dy}{dt}$ 는 음수
② $\tau_1 > \tau_a > 0$, $\frac{dy}{dt}$ 는 양수
③ $\tau_a > \tau_1 > 0$, $\frac{dy}{dt}$ 는 음수
④ $\tau_a > \tau_1 > 0$, $\frac{dy}{dt}$ 는 양수

13. 정상상태에서 $u(t)$ 에 계단 입력이 주어질 때 응답 $y(t)$ 에 진동이 나타나는 시스템은? (단, $y'(0) = y(0) = 0$ 이다.)

- ① $y'' + 2y' + y = u$
② $2y'' + 3y' + y = 2u$
③ $y'' + 2y' + 5y = 2u$
④ $2y'' + 5y' + 2y = u$

14. <보기>의 블록선도에 대하여 C_i 에 외란이 존재하는 경우, C 가 변하지 않도록 하는 G_f 는?



- ① $-s$
② $-(s+1)$
③ $-s/K$
④ $-(s+1)/K$

15. <보기>와 같은 2차계 전달함수 $G(s)$ 에 단위계단 입력을 인가하였을 때 발생하는 계단 응답에서 감쇠계수(ζ)에 따른 응답특성에 대한 설명으로 가장 옳지 않은 것은?

<보기>
 $G(s) = \frac{1}{\tau^2 s^2 + 2\zeta\tau s + 1}$

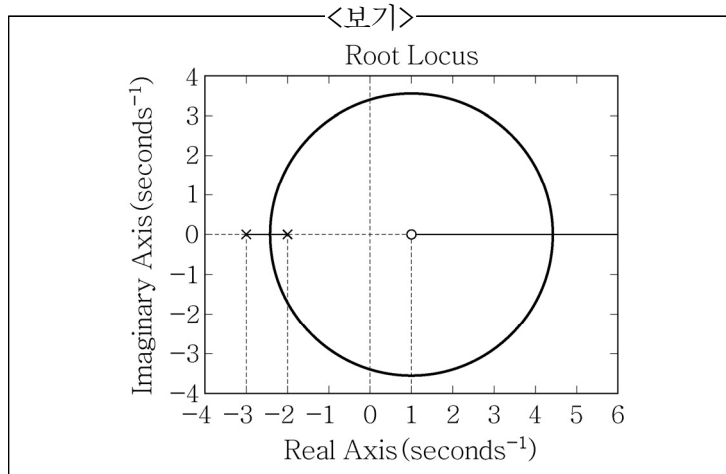
- ① $\zeta < 1$ 이면 복소수 근으로 과소감쇠한다.
② $\zeta > 1$ 이면 실수 근으로 과도감쇠한다.
③ $\zeta = 1$ 이면 진동하며 목표값에 빠르게 수렴한다.
④ $\zeta = 1$ 이면 중근으로 임계감쇠한다.

16. <보기>와 같은 제어 시스템의 특성 방정식에서 특정한 K 에 의해 근이 허수($j\omega$)축상에 존재할 때, K 와 허수 축상에 존재하는 모든 근의 곱은?

<보기>
 $q(s) = s^3 + (2+K)s^2 + 5s + (15-10K), K > 0$

- ① $\frac{2}{3}$
② 1
③ $\frac{4}{3}$
④ $\frac{5}{3}$

17. <보기>의 근궤적 선도(Root Locus)에 해당하는 전달 함수로 옳은 것은?



- ① $\frac{(s-1)}{(s+2)(s+3)}$
 ② $\frac{(1-s)}{(s+2)(s+3)}$
 ③ $\frac{(s+1)}{(s-2)(s-3)}$
 ④ $\frac{(1-s)}{(s-2)(s-3)}$

18. <보기>와 같은 1차 시간지연을 갖는 공정의 전달함수에 대하여 릴레이(relay) 피드백을 이용하여 공정의 한계 주기가 $\frac{8\pi}{3}$ 분임을 확인하였다. 공정의 시간상수 τ [분]는?

<보기>

$$G(s) = \frac{K_p}{\tau s + 1} e^{-\pi s}$$

- ① $\frac{\pi}{4}$ ② $\frac{3}{4}$
 ③ 1 ④ $\frac{4}{3}$

19. 이득이 1이고, 시간상수가 τ 인 1차계의 보데(Bode) 선도에서 $w = \frac{1}{\tau}$ 에 해당하는 진폭비 AR의 값은?

- ① $\sqrt{2}$ ② 1
 ③ 0 ④ $\frac{1}{\sqrt{2}}$

20. 전달함수 $G(s) = \frac{100}{s^2 + 1.6s + 4}$ 인 2차계가 있다. 동특성을 결정짓는 주요 인자인 시간상수 τ 와 감쇠계수 ζ 의 값은?

- | | | |
|---|--------|---------|
| | τ | ζ |
| ① | 0.25 | 0.2 |
| ② | 0.5 | 0.4 |
| ③ | 1.6 | 4 |
| ④ | 4 | 1.6 |

이 면은 여백입니다.