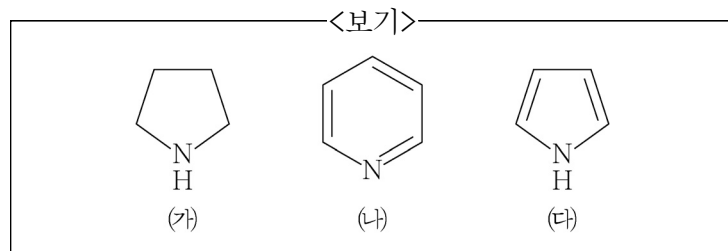


1. 2,4-Dimethyl-2-pentene에 수소붕소 첨가반응 후 산화반응이 진행된다면 생성되는 알코올은?

- ① 2,3-Dimethyl-2-pentanol
- ② 2,4-Dimethyl-2-pentanol
- ③ 2,3-Dimethyl-3-pentanol
- ④ 2,4-Dimethyl-3-pentanol

2. <보기>의 화합물을 염기성이 큰 것부터 순서대로 바르게 나열한 것은?



- ① (가) > (나) > (다)
- ② (가) > (다) > (나)
- ③ (나) > (다) > (가)
- ④ (다) > (나) > (가)

3. 폴리에틸렌, 폴리프로필렌 등을 중합하는 지글러-나타 (Ziegler-Natta) 촉매의 성분은?

- ① 과산화물계 라디칼 생성물
- ② 알칼리금속염과 유기리튬화합물
- ③ 유기마그네슘화합물과 알코올
- ④ 알킬알루미늄과 타이타늄 화합물

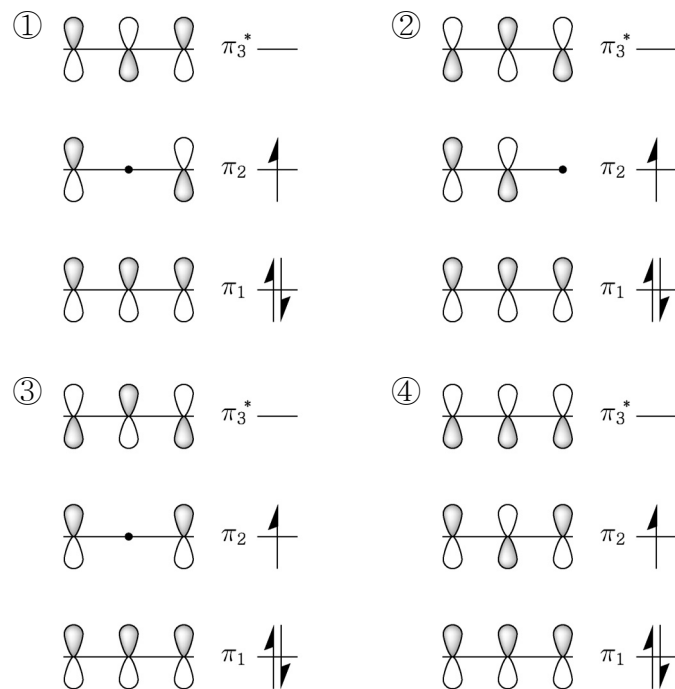
4. 거울상이성질체를 가질 것으로 예상되는 화합물은?

- ① *cis*-1,2-Dimethylcyclobutane
- ② *trans*-1,2-Dimethylcyclobutane
- ③ *cis*-1,3-Dimethylcyclobutane
- ④ *trans*-1,3-Dimethylcyclobutane

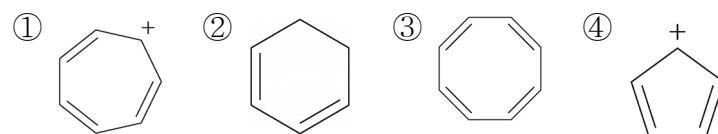
5. (+)-tartaric acid는 +12.0°의 고유 광회전도를 가지고 있다. 75%의 (+)-tartaric acid와 25%의 (-)-tartaric acid 혼합물의 고유 광회전도는?

- ① +3.0°
- ② +3.6°
- ③ +6.0°
- ④ +9.0°

6. 알릴 라디칼에서 3개의 p원자 오비탈이 형성하는 세 가지 π 분자 오비탈을 바르게 나타낸 것은? (짙은 색은 +, 연한 색은 - 부호를 나타낸다.)



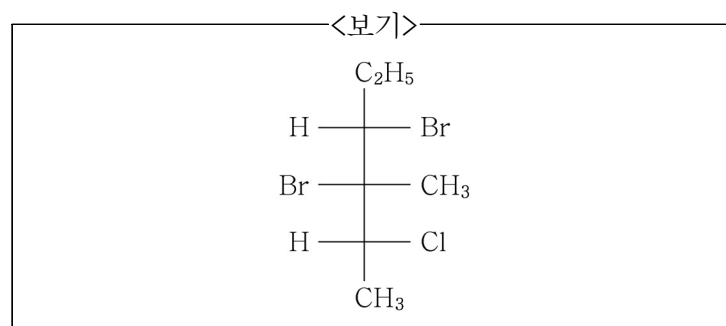
7. 방향족 화합물인 것은?



8. 화합물을 끓는점이 낮은 것부터 순서대로 바르게 나열한 것은?

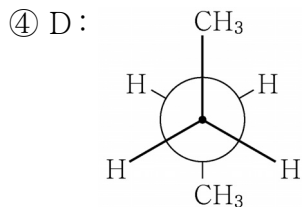
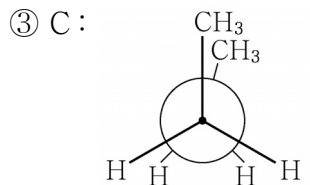
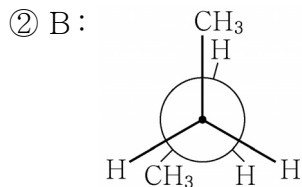
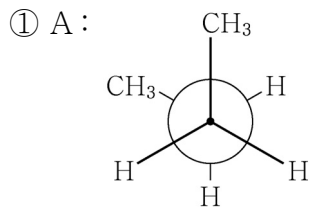
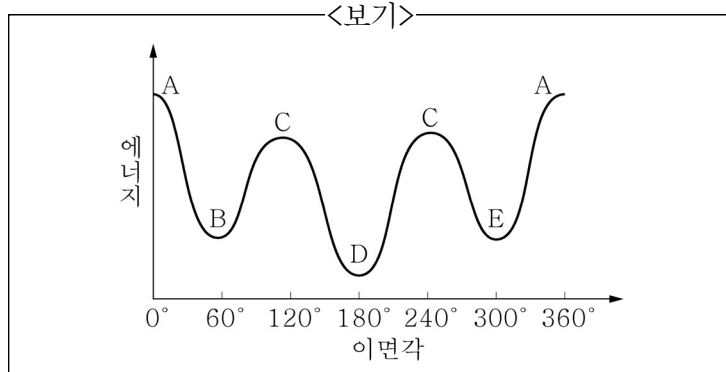
- ① *n*-Butane < 1-Butanol < Diethyl ether < 2-Butanone
- ② 2-Butanone < *n*-Butane < Diethyl ether < 1-Butanol
- ③ *n*-Butane < Diethyl ether < 2-Butanone < 1-Butanol
- ④ *n*-Butane < Diethyl ether < 1-Butanol < 2-Butanone

9. <보기> 화합물의 IUPAC 공식 명칭은?

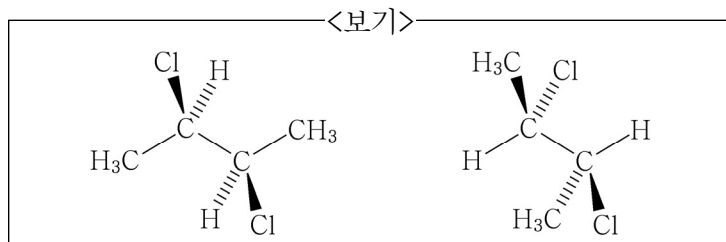


- ① (2*R*,3*S*,4*S*)-2-Chloro-3,4-dibromo-3-methylhexane
- ② (2*R*,3*S*,4*S*)-3,4-Dibromo-2-chloro-3-methylhexane
- ③ (2*R*,3*R*,4*S*)-3,4-Dibromo-2-chloro-3-methylhexane
- ④ (3*S*,4*S*,5*S*)-3,4-Dibromo-5-chloro-4-methylhexane

10. <보기>는 *n*-Butane의 회전에 따른 에너지 변화를 나타낸 것이다. A, B, C, D에 해당하는 Newman 투영도로 가장 옳은 것은?

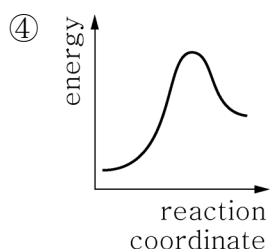
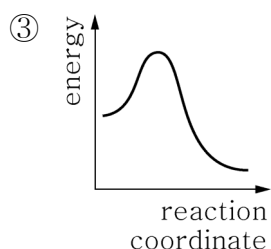
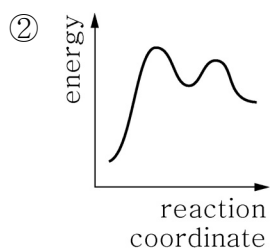
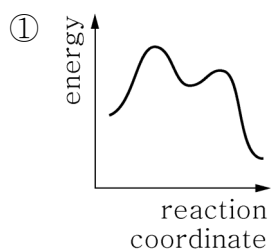


11. <보기>와 같은 구조의 화합물에 대한 설명으로 가장 옳은 것은?



- ① 두 화합물은 거울상이성질체이다.
- ② 두 화합물은 구조이성질체이다.
- ③ 두 화합물의 녹는점과 끓는점은 다르다.
- ④ 두 화합물은 각각 1개의 카이랄중심을 갖는다.

12. 발열 S_N1 반응을 나타내는 에너지 도표는?



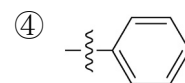
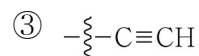
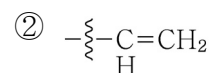
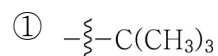
13. S_N2 반응의 특성에 해당하는 것은?

- ① 반응 속도론적으로 S_N2 반응은 1차(first-order) 속도식을 가진다.
- ② S_N2 의 반응 속도는 친핵체에 의존하지 않는다.
- ③ S_N2 반응은 중간체를 거치지 않는 단일 단계 반응이다.
- ④ 극성 비양성자성 용매는 S_N2 반응의 속도를 감소시킨다.

14. 알코올 또는 1,2-다이올(1,2-Diol)의 제법에 해당하지 않는 것은?

- ① 알켄을 오존과 반응시킨 후 $\text{Zn}/\text{H}_3\text{O}^+$ 와 반응시키면 1,2-다이올이 얻어진다.
- ② 알켄을 OsO_4 와 반응시킨 후 $\text{NaHSO}_3/\text{H}_2\text{O}$ 와 반응시키면 1,2-다이올이 얻어진다.
- ③ 알켄을 BH_3 와 반응시킨 후 $\text{H}_2\text{O}_2/\text{OH}^-$ 와 반응시키면 알코올이 얻어진다.
- ④ 알데하이드를 NaBH_4 와 반응시킨 후 물로 처리하면 알코올이 얻어진다.

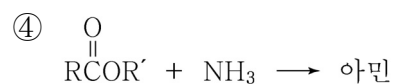
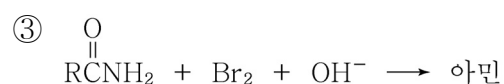

15. 치환기 중에서 Cahn-Ingold-Prelog 규칙상으로 가장 낮은 순위를 가지는 것은?




16. 큐멘(Cumene) 공정은 큐멘으로 불리는 Isopropylbenzene을 출발 물질로 이용하여 페놀과 아세톤을 생산하는 방법이다. 큐멘 공정에 대한 설명으로 가장 옳지 않은 것은?

- ① 큐멘을 고온에서 공기와 반응시키면 자유 라디칼 메커니즘이 관여한다.
- ② 무수 조건(anhydrous condition)에서 반응을 진행해야 수율이 높아진다.
- ③ 중간체로 Cumene hydroperoxide가 생성된다.
- ④ 자리옮김 반응이 관여한다.

17. 각 반응과 그에 따른 주 생성물에 대한 설명으로 가장 옳지 않은 것은?

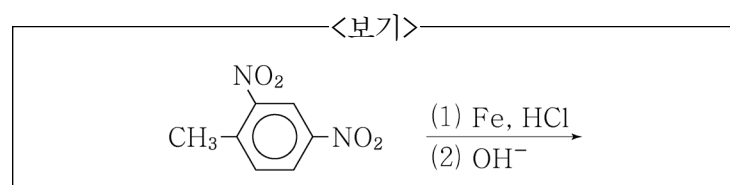


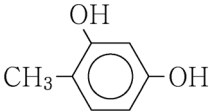
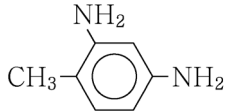
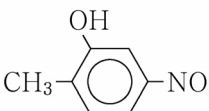
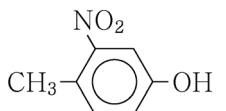
18. <보기>의 유기화합물의 구조에 따른 이름을 옳지 않게 짝지은 것은?

- <보기>
- (가) $\text{CH}\equiv\text{CCH}=\text{CHCH}_3$
 (나) $\text{CH}_3\text{CCl}_2\text{CCl}_2\text{CH}_3$
 (다) $\text{CH}_2=\text{CHCH}=\text{CHCH}=\text{CH}_2$
 (라)  $\text{CH}_2\text{CH}_2\text{OH}$

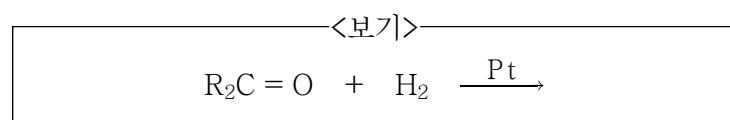
- ① (가) 2-Penten-4-yne
 ② (나) 2,2,3,3-Tetrachlorobutane
 ③ (다) 1,3,5-Hexatriene
 ④ (라) 2-Phenylethanol

19. <보기> 반응의 주 생성물로 가장 옳은 것은?



- ①  ② 
 ③  ④ 

20. 높은 온도와 압력하에서 <보기> 반응의 주 생성물로 가장 옳은 것은?



- ① 알데하이드(aldehyde)
 ② 알켄(alkene)
 ③ 카복실산(carboxylic acid)
 ④ 알코올(alcohol)

이 면은 여백입니다.