

2022년도 국회사무처 시행 9급 공개경쟁채용시험

관 리 직

제 1 과목 : 국 어

제 2 과목 : 영 어

제 3 과목 : 한 국 사

제 4 과목 : 사 회

제 5 과목 : 자동차구조원리
및 도로교통법규

○ 응시번호 :

○ 성 명 :

시험시간 및 향후일정 안내

- ❖ 시험 시간 : 14 : 00 ~ 15 : 40
- ❖ 정답 가안 발표 : 2022. 8. 13.(토) 18:00
- ❖ 정답 이의 제기 : 2022. 8. 16.(화) ~ 8. 17.(수) 17:00
- ❖ 필기시험 합격자 발표 : 2022. 9. 16.(금), 국회채용시스템

국 회 사 무 처

국회채용시스템 : <http://gosi.assembly.go.kr>

국 어

1. 밑줄 친 부분의 맞춤법이 옳지 않은 것은?

- ① 붉은빛을 띤 장미가 아름답다.
- ② 얼음이 얼어서 넘어지기 십상이다.
- ③ 지난 일을 다시 생각해 보니 췌고 분했다.
- ④ 그녀는 예의가 발라서 보기 좋다.
- ⑤ 그는 분노를 삭히려고 노력했다.

2. 띄어쓰기가 옳지 않은 것은?

- ① 그가V올V듯도V하다.
- ② 그가V언제V오는V지V확인했다.
- ③ 네가V그V일을V했을V리가V없다.
- ④ 서울과V인천V간V국도를V이용한다.
- ⑤ 열V명V내지V스무V명의V학생들이V참석했다.

3. 밑줄 친 ㉠과 ㉡의 음운 변동에 대한 설명으로 옳은 것은?

한 단어 내의 음운 변동은 여러 유형이 함께 나타날 수도 있다.
㉠따뜻하다[따뜨타다]와 ㉡샅일[상닐]에 일어나는 음운 변동에는 공통점과 차이점이 존재한다.

- ① ㉠과 ㉡ 중 ㉠에만 음운의 탈락 현상이 일어난다.
- ② ㉠과 ㉡ 중 ㉠에만 음운의 첨가 현상이 일어난다.
- ③ ㉠과 ㉡ 모두 음운의 축약 현상이 일어난다.
- ④ ㉠과 ㉡ 모두 음운의 대치 현상이 일어난다.
- ⑤ ㉠과 ㉡ 모두 음운 변동을 거치며 음운의 개수가 줄어든다.

4. 국어 문법의 특징으로 옳지 않은 것은?

- ① 어미가 발달되어 있다.
- ② 이중 주어 구문이 발달되어 있다.
- ③ 비교적 어순이 자유로운 언어에 속한다.
- ④ 공손성을 표현하는 수단이 발달했다.
- ⑤ 꾸미는 말이 꾸밈을 받는 말 뒤에 온다.

5. 다음 시조에 대한 설명으로 옳지 않은 것은?

이화(梨花)에 월백(月白)하고 은한(銀漢)이 삼경(三更)인 제
일지춘심(一枝春心)을 자규(子規)야 알라마난
다정(多情)도 병(病)인 양(樣)하여 잠 못 들어 하노라

- ① ‘이화’는 배나무 꽃을 말한다.
- ② ‘은한’은 은하수를 말한다.
- ③ ‘삼경’은 해 질 무렵의 시간을 말한다.
- ④ ‘일지’는 한 나뭇가지를 말한다.
- ⑤ ‘자규’는 소쩍새를 말한다.

6. 다음 시의 밑줄 친 ㉠에 대한 설명으로 옳은 것은?

흐르는 것이 물뿐이라
우리가 저와 같아서
강변에 나가 sap을 씻으며
거기 슬픔도 퍼다 버린다
일이 끝나 저물어
㉠스스로 깊어 가는 강을 보며
쭈그려 앉아 담배나 피우고
나는 돌아갈 뿐이다
삽자루에 맡긴 한 생애가
이렇게 저물고, 저물어서
샛강 바닥 썩은 물에
달이 뜨는구나
우리가 저와 같아서
흐르는 물에 sap을 씻고
먹을 것 없는 사람들의 마을로
다시 어두워 돌아가야 한다

- 정희성, 「저문 강에 sap을 씻고」-

- ① 자연의 자정 작용에 대한 기대감을 표현한다.
- ② 현재의 삶에 대한 적극적인 극복 의지를 드러낸다.
- ③ 사람들의 고통과 슬픔이 깊어지는 상황을 나타낸다.
- ④ 설의적 표현을 통해 자신의 무기력함을 성찰한다.
- ⑤ 현실의 갈등이 흐르는 물과 같이 해소되기를 염원한다.

7. 다음 글의 ㉠에 들어갈 말로 적절한 것은?

과거는 현재를 통해서 바라보아야 하며, 개인은 절대 사회를 떠나서 존재할 수 없는 존재이다. 그렇기 때문에 역사 서적을 읽는다는 것은 죽은 과거의 사실을 살펴본다는 것이 아니라 현재의 삶을 과거의 역사를 통해 통찰해 본다는 것을 의미한다.

그리고 그러한 일련의 과정의 무대가 되는 곳이 바로 사회라는 것과 사회는 하나의 생명체처럼 살아서 흘러 내려오고 있다는 사실을 간과해서는 안 된다.

이러한 사실을 토대로 고려해볼 때, 역사 서적을 읽을 때 던져야 하는 가장 큰 질문은 ㉠ 와 같은 것이어야 한다.

인간은 사회적 삶을 살아갈 때 가장 인간답다고 할 수 있다. 그리고 무엇보다 과거의 누군가의 삶들을 통해 현재의 삶을 수정해 나갈 수 있다는 것은 매우 유익한 것이라고 할 수 있을 것이다.

- ① ‘역사적 사실이 다양한 관점에서 기술되었는가?’
- ② ‘역사가의 임무는 무엇이며, 역사는 어떻게 기술되어야 하는가?’
- ③ ‘왜 이런 역사적 사실이 발생했고, 그 이후의 일들은 어떻게 진행되었는가?’
- ④ ‘역사 서적에 기술된 역사적 사실이 과연 진실인가? 어떤 조작된 요소는 없는가?’
- ⑤ ‘역사적 사실과 그것에 대한 역사가의 해석은 나의 삶과 어떻게 관련되는가?’

8. ㉠, ㉡의 문장에 대한 설명으로 옳은 것은?

- ㉠ 나는 그 사람이 정직함을 믿는다.
㉡ 그녀는 내가 모르는 노래를 불렀다.

- ① ㉠은 부사절이 안겨 있는 문장이다.
- ② ㉠의 안긴문장에는 서술어가 생략되어 있다.
- ③ ㉡은 명사절이 안겨 있는 문장이다.
- ④ ㉡의 안긴문장에는 목적어가 생략되어 있다.
- ⑤ ㉠과 ㉡은 모두 서술절을 포함하고 있다.

9. 다음 글에서 ‘루스벨트’가 말하는 방식에 대한 설명으로 옳은 것은?

루스벨트는 미국 대통령으로 당선되기 전에 해군에서 요직을 맡고 있었다. 어느 날 친구가 카리브해에 있는 섬의 잠수함 기지 건설계획을 그에게 물었다. 이 계획은 군사기밀이었으므로 루스벨트는 친한 친구라 하더라도 정보를 공유할 수 없었다. 하지만 직설적으로 거절하면 자신을 믿지 못하는 것이냐며 따지고 들 게 분명했다. 자신을 무시한다며 다시 보지 말자고 선언할 수 있는 상황이었다. 루스벨트는 긴장하는 척하면서 주위를 둘러보았다. 아무도 없음을 확인하고 목소리를 낮추어 말했다.

“비밀 지킬 수 있어?”

친구는 기지 계획을 들을 수 있다는 희망에 큰 소리로 답했다.

“물론이지!”

이에 루스벨트는 미소 지으며 대답했다.

“나도 그래.”

루스벨트는 친구의 불합리한 요구를 교묘하게 거절하면서 친구의 체면을 지켰다.

- ① 인정에 호소하는 태도로 상대를 설득하고 있다.
- ② 재치 있는 답변으로 곤란한 상황에 대처하고 있다.
- ③ 상대에 대한 공감의 태도를 보이면서 상대의 기대에 부응하고 있다.
- ④ 상대의 요구를 단호하게 거절하여 자신의 생각을 분명하게 표현하고 있다.
- ⑤ 상대를 직접적으로 비판하여 상대가 잘못을 깨닫게 만드는 화법을 쓰고 있다.

10. 한자 성어와 뜻의 연결이 옳지 않은 것은?

- ① 股肱之臣: 다리와 팔과 같이 중요한 신하.
- ② 狐假虎威: 남의 권세를 빌려 위세를 부림.
- ③ 要領不得: 말이나 글의 목적이나 의미가 분명치 않음.
- ④ 牽強附會: 세상과 타협하고 권력에 굴복함.
- ⑤ 肝膽相照: 서로 속마음을 털어놓고 친하게 사귀.

11. 다음 (가)~(마)를 문맥에 맞게 순서대로 나열한 것은?

(가) 선천성 면역은 다시 둘로 나뉩니다. 하나는 제1 방어선으로서 피부, 점막, 정상미생물상이고, 다른 하나는 제2 방어선으로서 식세포, 염증, 발열, 항미생물 물질 등입니다.

(나) 면역은 크게 선천성(비특이적) 면역과 후천성(특이적) 면역으로 나뉩니다. 선천성과 후천성은 말 그대로 면역을 태어날 때부터 완비했느냐, 살아가면서 습득했느냐에 따라 구분됩니다.

(다) 다른 하나는 세포성 면역으로, T세포에 의존하며 세포 내부에 침투한 병원체를 제거합니다.

(라) 후천성 면역에도 두 가지 종류가 있습니다. 하나는 체액성(항체 매개) 면역으로, 항원에 대항할 수 있는 항체를 내뿜는 면역 방식입니다. 체액에 엄청난 양의 항체를 뿌리는 세포는 B 세포입니다.

(마) T세포는 자기 자신의 세포가 비자기로 돌변한 것, 예컨대 암 세포를 파괴하기도 합니다. T세포는 면역을 활성화하기도 억제하기도 합니다.

- ① (가) - (라) - (다) - (마) - (나)
- ② (나) - (가) - (다) - (마) - (라)
- ③ (나) - (가) - (라) - (다) - (마)
- ④ (나) - (라) - (가) - (마) - (다)
- ⑤ (라) - (다) - (나) - (마) - (가)

12. ㉠~㉣ 중 <보기>의 문장이 들어가기에 적절한 곳은?

<보 기>

그리하여 가축과 그 고기를 먹는 인간의 건강뿐만 아니라, 세계 전역의 농지들이 그 피해를 고스란히 입고 있는 것이다.

곡물 사료는 비단 가축뿐만 아니라 세계의 가난한 사람들에게도 구조적인 폭력을 행사한다. ㉠ 우리가 다 알고 있듯이, 쇠고기를 비롯한 육류는 곡식에 비해서 낭비적 요소를 내포하고 있는 식품이다. ㉡ 오늘날 1인분의 쇠고기 생산을 위해서 20인분의 곡물이 투입되고 있고, 1칼로리의 쇠고기를 생산하는 데 보통 35칼로리의 석유가 소모되고 있다. ㉢ 그 결과는 전 세계적으로 10억의 비만 인구와 10억의 기아 인구의 공존이라는 비극적 현실이다. ㉣ 또한 여기서 간과할 수 없는 것은 사료용 곡물 재배에는 살충제가 무제한적으로 남용되고 있다는 점이다. ㉤ 오늘날 육류 소비가 늘어가는 것과 병행해서 아까운 열대 우림이 끝없이 훼손되고, 전 세계적으로 심각한 토양 오염 및 토지 열화 현상이 확대되고 있는 것은 결코 우연이 아니다.

- ① ㉠ ② ㉡ ③ ㉢ ④ ㉣ ⑤ ㉤

13. 다음 글에 대한 이해로 옳지 않은 것은?

묘사란 원래 그린다는 뜻의 회화 용어다. 어떤 사물이나 어떤 사태를 그림 그리듯 그대로 그려냄을 가리킨다. 역사나 학술처럼 조리를 세워 끌어나가는 것은 기술이지 묘사는 아니다. 실경(實景), 실황(實況)을 보여주어 독자로 하여금 그 경지에 스스로 들고, 분위기까지 스스로 맛보게 하기 위한 표현이 묘사다.

아름다운 풍경을 보고 ‘아름답구나!’ 하는 것은 자기의 심리다. 자기의 심리인 ‘아름답구나!’만 써가지고는, 독자는 아무 아름다움도 느끼지 못한다. 독자에게도 그런 심리를 일으키기 위해서는 그 풍경이 아름다운 까닭을, 즉 하늘, 구름, 산, 내, 나무, 돌 등 풍경의 재료를 풍경대로 조합해서 문장으로 표현해주어야 독자도 비로소 작자와 동일한 경험을 그 문장에서 얻고 한가지로 ‘아름답구나!’ 하는 심리에 이를 수 있는 것이다.

이렇듯 제재의 현상을 문장으로 재현하는 것이 묘사다.

묘사를 할 때 명심해야 할 사항으로는 다음의 몇 가지가 있다. 첫째, 객관적일 것. 언제든지 냉정한 관찰을 거쳐야 하기 때문이다.

둘째, 정연할 것. 시간적으로든 공간적으로든 순서가 있어야 전체 인상이 선명해지기 때문이다.

셋째, 사진을 찍는 것과는 달라야 할 것. 대상의 핵심과 특색은 취하되, 불필요한 것은 버려야 하기 때문이다.

- ① 묘사는 실경(實景)과 실황(實況)을 보여주는 것이다.
- ② 묘사는 객관적이어야 하므로 주관적인 심정을 표현할 수는 없다.
- ③ 질서정연하게 묘사할수록 대상은 분명하게 전달된다.
- ④ 대상을 제대로 묘사하기 위해서 대상의 모든 정보를 표현해야 할 필요는 없다.
- ⑤ 묘사는 제재의 현상을 문장으로 재현하는 것이다.

14. ㉠~㉣의 파생어에 대한 설명으로 옳은 것은?

- ㉠ 어른스럽다, 슬기롭다
- ㉡ 끓이다, 높다
- ㉢ 짓밟다, 짓누르다
- ㉣ 착하다, 아름답다
- ㉤ 먹이, 덩개

- ① ㉠에서 어근의 품사와 파생어의 품사는 서로 다르다.
- ② ㉡에서 어근의 품사와 파생어의 품사는 서로 같다.
- ③ ㉢에서 접두사는 명사 어근에 붙어 ‘함부로’, ‘마구’의 뜻을 더한다.
- ④ ㉣은 홀로 쓰일 수 있는 명사에 접미사가 결합한 파생어이다.
- ⑤ ㉤에서 접미사는 형용사 어근에 붙어 명사를 파생한다.

15. 다음 글에 대한 이해로 옳지 않은 것은?

자동화가 급속하게 발전하면서 사람이 하는 일이 줄어들고 공
산품의 가격이 하락한다는 예측이 있다. 그런데 그것이 우리가 원
하는 이상적인 사회일까? 좋은 물건을 싸게 살 수 있으니 좋겠
지만, 다른 한편으로 생산 공정의 합리적 발달 때문에 인간의
일자리가 줄어들고, 결국 소비가 줄어드는 세상이 되는 것은 아
닐지 걱정되기도 한다. 뉴스에서도 한번 크게 보도된 적이 있는
데, 중국에서 종업원 규모가 만 명 되는 공장을 독일식의 ‘산업 4.0
시스템’을 적용해서 합리화했더니 종업원 수가 500명으로 줄었다고
했다. 그러면 나머지 9,500명은 어디로 갔겠는가 말이다.

인공지능이 대거 활약하게 되는 4차 산업혁명이 가속화돼서
이런 일이 상품과 지식 생산의 모든 영역에서 일어난다면 어찌
될 것인가. 어쨌건 상품이나 지식의 값은 싸지겠지만, 그것을 돈
주고 사는 소비자는 점점 없어져 버리는 사회가 될 수도 있다. 이
는 분명히 우려할 만한 일이다.

과학 기술의 발전이 분명히 우리가 사는 사회를 더 괜찮은 사
회, 살기 좋은 사회로 만드는 측면이 있지만, 동시에 일하는 사
람이 점점 없어진다는 건 아니면서 조금 다른 용어로 사회의 불평
등이 점점 심해져서 아주 많은 돈을 버는 소수의 사람들과 일자
리가 없는 다수의 사람들로 세상이 양극화될 가능성을 크게 하는
측면도 있다. 그야말로 유토피아와 디스토피아의 공존이 일어날
수 있는 것이다.

이러한 문제의식을 가지고 있다면 주목할 책이 1516년 출간된
영국 작가 토머스 모어의 『유토피아』이다. 이 책이 선구적인 이
유는 유토피아(utopia)라는 말이 여기서 처음으로 사용되었다는 사
실에서 쉽게 찾을 수 있다. 모어는 ‘좋은 곳’이라는 뜻의
‘eu-topia’와 ‘아무 데도 존재하지 않는 곳’이라는 뜻의
‘ou-topia’를 동시에 나타내는 중의적 개념으로 유토피아라는 말을
만들었는데, 이때부터 유토피아는 존재하지 않는 이상향을 뜻하게
되었다.

디스토피아(dystopia)는 유토피아의 반대말로, 상당히 끔찍한
미래의 어떤 사회를 이야기할 때 사용하는 단어이다. 접두어
‘dys’는 ‘나쁜’, ‘고된’이란 뜻이다. 디스토피아는 19세기에 만들어진
말로 역사가 오래되지 않은 표현이다. 산업혁명 이후에 사회적
불평등이 확산되고 기계화로 인한 인간성 상실에 대한 논의가
시작되면서 디스토피아라는 단어가 만들어지고 널리 사용되었다.

- ① 인공지능 기술은 유토피아적 세계와 디스토피아적 세계의 가능성을
동시에 갖고 있는 기술이다.
- ② ‘디스토피아’는 사회적 불평등이 확산되고 인간성 상실의 문제가
발생하면서 만들어진 용어이다.
- ③ 4차 산업혁명이 가속화될 경우 우리 사회의 불평등과 양극화 현
상은 점점 심해질 수 있다.
- ④ ‘유토피아’는 토머스 모어의 책에서 처음으로 사용된 표현이다.
- ⑤ ‘유토피아’는 ‘디스토피아’의 문제점을 해결하기 위해 고안된 표현이다.

16. 다음 글에 대한 이해로 옳지 않은 것은?

몸을 닦는 일(修身)은 효도와 우애로써 근본을 삼아야 한다.
효도와 우애에 자기 본분을 다하지 않으면 비록 학식이 고명하고
문체가 찬란하고 아름답다 하더라도 흠담에다 아름답게 색칠해
놓은 것에 지나지 않는다. 자기 몸을 이미 엄정하게 닦았다면 그
가 사귀는 벗도 자연히 단정한 사람일 것이므로 같은 기질로써 인
생의 목표가 비슷하게 되어 친구 고르는 일에 특별히 힘쓰지 않
아도 된다.

이 늙은 아버지가 세상살이를 오래 경험하였고 또 어렵고 험난한
일을 고루 겪어보아서 사람들의 심리를 두루 알고 있다. 무릇
천륜에 야박한 사람은 가까이해서도 안 되고 믿어서도 안 되며,
비록 충직하고 인정 있고 부지런하고 재빠르게 온 정성을 다하여
나를 섬기더라도 절대로 가까이해서는 안 된다. 이들은 끝내 은
혜를 배반하고 의리를 잊어먹고 아침에는 따듯이 대해주다가도 저
녁에는 차갑게 변하고 만다.

대체로 이 세상에 깊은 은혜와 두터운 의리는 부모형제보다
더한 것이 없는데 부모형제를 그처럼 가볍게 버리는 사람이 벗
들에게 어찌하리라는 것은 쉽게 알 수 있는 이치다. 너희는 이
점을 반드시 기억해두도록 하거라. 무릇 불효자는 가까이 하지 말고
형제끼리 우애가 깊지 못한 사람도 가까이해서는 안 된다.

- ① 자기 몸을 엄정하게 닦는 것의 중요성을 역설하고 있다.
- ② 효와 우애의 덕목을 충실하게 지키는 사람을 친구로 삼기를 권
하고 있다.
- ③ 학문에 깊이가 있고 충직한 사람이라면 반드시 곁에 두어야 한다고
말하고 있다.
- ④ 좋은 친구를 사귀려면 먼저 스스로가 단정하고 좋은 사람이 되
어야 한다고 충고하고 있다.
- ⑤ 어떤 일이 있어도 천륜을 어기는 사람은 경계할 것을 조언하고 있다.

17. 밑줄 친 ㉠, ㉡에 해당하는 예로 옳은 것은?

어휘는 ㉠물리적 공간과 관련된 중심적 의미를 지니는 것이 ㉡
추상화되어 주변적 의미도 지니게 되는 경우가 있다.

- | ㉠ | ㉡ |
|---------------------|------------------|
| ① 물은 낮은 자대로 흐른다. | 환경에 대한 관심도가 낮다. |
| ② 내 좁은 소견을 말씀드렸다. | 마음이 좁아서는 곤란하다. |
| ③ 우리는 넓은 공터에 모였다. | 우리집 마당은 꽤 넓다. |
| ④ 그녀는 성공할 가능성이 크다. | 힘든 만큼 기쁨도 큰 법이다. |
| ⑤ 형의 말은 거의 사실에 가깝다. | 집결 장소는 가까운 곳이다. |

18. 다음 글에 대한 이해로 옳지 않은 것은?

이때에 뻑뻑 소리가 응아 소리로 변하였다. 개똥이가 물었던 젖을 빼어 놓고 운다. 운대도 온 얼굴을 찡그려 붙여서 운다는 표정을 할 뿐이다. 응아 소리도 입에서 나는 게 아니고 마치 뱃속에서 나는 듯하였다. 울다가 울다가 목도 잠겼고 또 울 기운조차 시진한 것 같다.

발로 차도 그 보람이 없는 걸 보자 남편은 아내의 머리맡으로 달려들어 그야말로 까치집 같은 환자의 머리를 꺼들어 흔들며,

“이년아, 말을 해, 말을! 입이 붙었어, 이 오라질 년!”

“…….”

“으응, 이것 봐, 아무 말이 없네.”

“…….”

“이년아, 죽었다 말이나, 왜 말이 없어.”

“…….”

“으응, 또 대답이 없네. 정말 죽었나버이.”

이러다가 누운 이의 흰 창을 덮은, 위로 치뜬 눈을 알아보자마자,

“이 눈깔! 이 눈깔! 왜 나를 바라보지 못하고 천장만 보느냐, 응.”

하는 말끝엔 목이 메었다. 그러자 산 사람의 눈에서 떨어진 땀의 똥 같은 눈물이 죽은 이의 뺨뺨한 얼굴을 어롱어롱 적시었다. 문득 김 침지는 미친 듯이 제 얼굴을 죽은 이의 얼굴에 한대 비비대며 중얼거렸다.

“설령탕을 사다 놓았는데 왜 먹지를 못하니, 왜 먹지를 못하니……. 괴상하게도 오늘은! 운수가, 좋더니만…….”

- 현진건, 「운수 좋은 날」에서 -

- ① 반어적 기법이 나타난다.
- ② 대화를 통해 등장인물 간의 갈등이 해소되고 있다.
- ③ 비속어를 사용하여 인물의 삶을 사실적으로 그리고 있다.
- ④ 음성 상징어를 사용하여 표현의 효과를 높이고 있다.
- ⑤ ‘설령탕’은 비극적 상황을 강조하는 소재이다.

19. 외래어 표기법이 옳지 않은 것은?

- ① 프로포즈(propose)
- ② 플랫폼(platform)
- ③ 레이더(radar)
- ④ 장르(genre)
- ⑤ 배지(badge)

20. 다음 글에 대한 이해로 옳은 것은?

“아니야, S병원으로 가.”

철호는 갑자기 아내의 죽음을 생각했던 것이었다. 운전수는 다시 획 핸들을 이쪽으로 틀었다. 운전수 옆에 앉아 있는 조수 애가 한 번 철호를 돌아다보았다. 철호는 뒷자리 한구석에 가서 몸을 틀어박은 채 고개를 뒤로 젖히고 눈을 감고 있었다. 차는 한국은행 앞 로터리를 돌고 있었다. 그때 또 뒤에서 철호가 소리를 질렀다.

“아니야, X경찰서로 가.”

눈을 감고 있는 철호는 생각하는 것이었다. 아내는 이미 죽었는데 하고.

이번에는 다행히 차의 방향을 바꿀 필요가 없었다. 그냥 달렸다.

“X경찰서 앞입니다.”

철호는 눈을 떴다. 상반신을 벌떡 일으켰다. 그러나 곧 털썩 뒤로 기대고 쓰러져버렸다.

“아니야, 가.”

“X경찰섭니다. 손님.”

조수 애가 뒤로 몸을 틀어 돌리고 말했다.

“가자.”

철호는 여전히 눈을 감고 있었다.

“어디로 갑니까?”

“글쎄, 가!”

“하 참, 딱한 아저씨네.”

“…….”

“취했나?”

운전수가 힐끔 조수 애를 쳐다보았다.

“그런가 봐요.”

“어쩌다 오발탄(誤發彈) 같은 손님이 걸렸어. 자기 갈 곳도 모르게.”

- 이범선, 「오발탄」에서 -

- ① ‘철호’는 삶의 의지를 점차 회복하고 있다.
- ② ‘운전수’는 ‘철호’에게 공감의 태도를 보이고 있다.
- ③ ‘철호’와 ‘운전수’ 사이의 계급 차이가 잘 드러난다.
- ④ ‘철호’는 목적지를 정하지 못한 상태이다.
- ⑤ ‘S병원’과 ‘X경찰서’는 ‘철호’가 도달하지 못하는 이상향이다.

영 어

※ 밑줄 친 부분의 의미와 가장 가까운 것을 고르시오. (1 ~ 4)

1. When they erupt, they release large amounts of carbon dioxide into the atmosphere, thereby warming it.

- ① address ② decline
③ explode ④ endure
⑤ ponder

2. Meeting in Germany, leaders of the Group of Seven industrialized countries reiterated their commitment to helping Ukraine win the war this week and added new sanctions on Russia, including a cap on the price of Russian oil exports.

- ① embargoes ② provisions
③ commodities ④ commitments
⑤ engagements

3. In general, young people often develop antagonistic feelings toward each other when competing for grades.

- ① extravagant ② sympathetic
③ unbearable ④ aboriginal
⑤ hostile

4. Scientists attach great importance to the human capacity for spoken language. But we also have a parallel track of nonverbal communication, and those messages may reveal more than our carefully chosen words and sometimes be at odds with them.

- ① in harmony with ② incongruent with
③ indispensable to ④ indifferent to
⑤ in favor of

5. 밑줄 친 부분에 들어갈 단어로 가장 적절한 것은?

Movies that are “restricted” to adult audiences are rated “R” and contain scenes with nudity and sex. The language in these movies contains _____, and the violence shown can be very graphic, usually filmed with blood and other disturbing special effects.

- ① profanity ② guidelines
③ penalties ④ warning
⑤ clichés

※ 밑줄 친 부분에 들어갈 표현으로 가장 적절한 것을 고르시오. (6 ~ 7)

6. So far, around 130 students _____ suspensions, which means they are not allowed to use the library for up to 30 days.

- ① to give
② are given
③ have been given
④ have been giving
⑤ will have been given

7. For this reason, drones can be _____ than traditional aircraft.

- ① very smaller and more maneuverable
② much smaller and more maneuverable
③ much smaller and much maneuverable
④ much smaller and maneuverabler
⑤ very smaller and very maneuverable

※ 밑줄 친 부분 중 어법상 옳지 않은 것을 고르시오. (8 ~ 9)

8. The whole issue about life on other worlds ①begs the question: What is life, and how would we recognize it? Certainly, living things are made of cells (or a cell) and share three critical processes that make them ②alive. They ingest energy, excrete waste energy, and pass on their genes through reproduction. But they also respond ③to their environments. They maintain homeostasis, or internal balance. They evolve and adapt. Some living things even have evolved to the point ④which they can walk and think about the universe that surrounds them. We are literally products of the universe. Most of the atoms and molecules in our bodies were created in the engines of stars, and the energy we receive that enables life ⑤comes from our star: the Sun.

9. Validity is the most important consideration in test evaluation. The concept refers to the appropriateness, meaningfulness, and usefulness of the specific inferences ①made from test scores. Test validation is the process of accumulating evidence to back up such inferences. A variety of inferences may be made from scores produced by a ②given test, and there are many ways of accumulating evidence to ③support any particular inference. Validity, however, is a unitary concept. Although evidence may be accumulated in many ways, validity always refers to the degree to which that evidence supports the inferences that ④is made from the scores. The inferences ⑤regarding specific uses of a test are validated, not the test itself.

10. 밑줄 친 부분 중 문맥상 단어의 쓰임이 적절하지 않은 것은?

Databases provided an ①efficient way to store and search for data. Organized into fields of information, the database enabled marketers to rank or select various groups of individuals from its master list of customers—a practice called “modeling.” Through this process, ②more mailings or calls needed to be made, resulting in a higher response rate and lower costs. In addition to isolating a company’s most ③profitable customers, marketers studied them, profiled them, and then used that profile to find ④similar customers. This, of course, required not only information about existing customers, but the collection of data about ⑤prospective customers as well.

11. 다음 글의 내용과 일치하지 않는 것은?

Despite such losses, Germany as a country is rich, but a recent study from the European Central Bank suggests that the typical German household is not. Astonishingly, the median household’s net assets, at €51,400, are less than those of the typical Italian, Spanish or even Greek household. These figures need careful interpretation. Households in Germany are smaller than in those countries, and their average is dragged down by the east, where 20 years ago no one had any assets to speak of. Moreover, the figures do not include pension promises. But the main reason for the poor showing is that far fewer people than in other European countries own their homes. Most households rent, and the housing stock is owned by a relatively small number of people, so Germany ends up with the most unequal distribution of household wealth in the euro zone.

- ① 전형적인 독일 가구가 부유하다는 최근 연구 결과가 있다.
 ② 한 연구에 따르면 전형적인 스페인 가구의 순자산은 독일 중위 가구의 순자산을 능가한다.
 ③ 유럽중앙은행의 연구가 제시한 수치는 신중한 해석이 필요하다.
 ④ 독일의 경우 자신의 집을 소유한 사람의 수는 다른 유럽 국가보다 적다.
 ⑤ 가구 재산의 분배에 있어 독일은 유로존에서 가장 불평등하다.

12. 글의 흐름상 가장 어색한 문장은?

Now that we have some understanding of how language works, we can go back and try and answer the question of whether any animals have a true language. ① According to many leading scientists in the field, the answer is: maybe. Most scientists agree that human language is clearly the most complex, and that no other animal has a communication system that comes close. ② Many forms of animal communication do have some of the elements of human language. Some scientists believe that certain animals, such as primates and marine mammals, do use a type of language. ③ For example, vervet monkeys have different sounds for different predators. When an alarm call is given, the monkeys know whether they should be on the lookout for an eagle, leopard, or snake. ④ Monkeys aren’t the only land mammals that have a complex communication system with elements of human language in it. ⑤ These monkeys are using arbitrary sounds that have agreed-upon meanings. This is a key element of language.

※ 밑줄 친 (A)와 (B)에 들어갈 표현으로 가장 적절한 것을 고르시오. (13 ~ 14)

13. A 'cover' is typically defined as a recording of a song that was first recorded by someone else. Something like this is given in many dictionaries and by some scholars. (A), Albin Zak provides a glossary entry defining a 'cover version' as "a recording of a song that has been recorded previously by another artist." Don Cusic writes, "the definition of a 'cover' song is one that has been recorded before." Consider the song 'Let It Be,' written by John Lennon and Paul McCartney. Their band, the Beatles, had a hit with it when they released their version in 1970. _____ (B), the first released recording of the song—by a few months—was by Aretha Franklin. A website which generates its descriptions automatically labels the Beatles' version as a cover of Franklin's, and that is just what the usual definition would suggest.

- | | (A) | (B) |
|---|--------------|--------------|
| ① | For instance | Therefore |
| ② | In addition | Nevertheless |
| ③ | For example | However |
| ④ | For example | Consequently |
| ⑤ | Moreover | However |

14. As the scale of economic activity has proceeded steadily upward, the scope of environmental problems triggered by that activity has transcended both (A) and (B) boundaries. When the environmental problems were smaller in scale, the nation-state used to be a sufficient form of political organization for resolving them, but is that still the case? Whereas each generation used to have the luxury of being able to satisfy its own needs without worrying about the needs of generations to come, intergenerational effects are now more prominent. Solving problems such as poverty, climate change, ozone depletion, and the loss of biodiversity requires international cooperation. Because future generations cannot speak for themselves, the current generation must speak for them. Current policies must incorporate our obligation to future generations, however difficult or imperfect that incorporation might prove to be.

- | | (A) | (B) |
|---|---------------|---------------|
| ① | intercultural | economic |
| ② | geographic | generational |
| ③ | political | sociocultural |
| ④ | ecological | ethical |
| ⑤ | environmental | behavioral |

15. 밑줄 친 (A), (B), (C)에 들어갈 표현으로 가장 적절한 것은?

Why did communicative sound take so long to evolve? Bacterial and single-celled life existed for three billion years with no known sonic signals. Although all these cells could sense water motions and vibrations, none reached out to (A) with sound. The first three hundred million years of animal evolution, too, seem to have lacked any communicative signals. No known fossil from this time has a rasp or other sound-making structure. The expert paleontologists (B) advice I sought all said that they knew of no physical evidence of sound-making structures from animals until the first cricket-and cicada-like insects evolved. Of course, the fossil record is incomplete and some sound-making structures, such as the swim bladders of fish, leave (C) or no trace in rock, and so we hear imperfectly across these great stretches of time.

- | | (A) | (B) | (C) |
|---|--------|-------|----------|
| ① | other | whose | a little |
| ② | other | what | little |
| ③ | others | whose | a little |
| ④ | others | what | a little |
| ⑤ | others | whose | little |

16. 다음 글의 제목으로 가장 적절한 것은?

Eating at home is the norm for most people on most days, yet traditions of eating out go back centuries, and the practice is typical. The French do not eat outside of the home as frequently as residents of some nations with a comparable standard of living, such as the United Kingdom. Nonetheless, the trend to take meals outside of the home increases perceptibly in France, if not as quickly as in some affluent nations. Between 1970 and 1990, household spending on eating out increased 0.25 percent, and expenditure for food to be eaten at home fell by a full 7 percent. An estimate from 2004 calculated 9 billion meals out taken annually. Of these people ate 3.7 billion meals in cafeterias and other collective settings and 4.6 billion in commercial restaurants, from fine restaurants to fast-food restaurants and chains.

- ① Gorgeous Restaurants in Europe
- ② Fast-food Chains in France
- ③ Traditional Food of France
- ④ Typical French Food
- ⑤ Eating Out in France

17. 다음 글의 내용과 일치하는 것은?

Glass Beach was created by accident. Beginning in 1906, people were permitted to throw away their garbage in the ocean near the city. People threw away glass bottles, appliances, and even cars. In 1967, the local government made it illegal to throw away trash in the water. After this, there were many cleanup efforts to recycle the metal and the other non-biodegradable waste. However, most of the glass had already been broken into tiny pieces. The glass was too difficult to remove, so it was left in the water. Over time, the pounding waves caused the rough pieces of glass to become smooth. These green, white, and brown pieces of smooth glass began washing up on shore, creating Glass Beach.

- ① Glass Beach는 의도적으로 만들어졌다.
- ② 정부는 1906년에 바다에 쓰레기를 버리는 것을 금지했다.
- ③ 금속 폐기물을 재활용하기 위한 노력이 있었다.
- ④ 사람들은 바다에 남겨진 유리조각을 남김없이 치웠다.
- ⑤ 거대한 유리조각들이 Glass Beach를 관광명소로 만들었다.

18. 주어진 글 사이에 들어갈 글의 순서로 가장 적절한 것은?

Some visual displays are meant only for members of an animal's own species. These include mating rituals and signals that tell a group when to move to a new location. Have you ever noticed that when a flock of birds takes off, they often all leave together?

- (A) The only difference is that instead of using sound, one of the more dominant birds will signal to the rest of the birds using an action called an intention movement.
- (B) In a typical "take off" signal, one bird will raise its wings and lift off the ground a few inches.
- (C) It's almost as if one of them said, "Let's go." In fact, this is exactly what happens.

Seeing this, the birds around it will pick up the signal and pass it to the other members of the group. Within a few seconds, the whole flock lifts off and heads into the sky.

- ① (A) - (C) - (B)
- ② (B) - (A) - (C)
- ③ (B) - (C) - (A)
- ④ (C) - (A) - (B)
- ⑤ (C) - (B) - (A)

※ 밑줄 친 부분에 들어갈 표현으로 가장 적절한 것을 고르시오. (19 ~ 20)

19. What counts as private information or as intrusion can vary among cultures and even within subcultures of a particular society. Whether an act is regarded as intrusion or comfortable familiarity depends on _____. For example, knocking on doors and waiting to be granted permission to enter is one way that privacy is respected in some cultures. In other cultures, it is acceptable for people to walk unannounced through entranceways or to enter a friend's or family member's home without knocking.

- ① the circumstances and shared understandings of those involved
- ② the rights and responsibilities associated with privacy
- ③ people's ability to live a life without being interfered
- ④ the individual's control over personal information
- ⑤ the efficacy of the law to protect privacy

20.

Researchers at Princeton University and the University of California, Los Angeles, found that students who handwrote lecture notes rather than typing them out retained more of the information precisely because they were slowed down. A quick keyboard transcription doesn't require critical thinking. The slower process of handwriting means not everything will be captured verbatim; instead, the brain is forced to exert more effort to capture the essence of what's important, thus ----- . Slowing down doesn't mean being slow; it just means taking a few minutes to absorb what we are seeing. Details, patterns, and relationships take time to register. Nuances and new information can be missed if we rush past them.

- ① distracting our attention for more information
- ② speeding up the whole process of imagination
- ③ assigning our mental resources to various tasks
- ④ inundating the memory with too much information
- ⑤ committing the information more effectively to memory

한국사

1. ㉠ 유물이 등장한 시대에 대한 설명으로 옳은 것은?

1978년 연천의 전곡리에서 ㉠이/가 처음 발견되었다. ㉠은/는 손에 쥐고 사용하기 때문에 붙여진 이름이다.

- ① 갈돌과 갈판을 이용하였다.
- ② 빗살무늬토기를 사용하였다.
- ③ 반달돌칼을 이용하여 벼를 수확하였다.
- ④ 동굴, 바위 그늘, 강가의 막집에서 생활하였다.
- ⑤ 다른 씨족과의 혼인을 통해 부족사회를 형성하였다.

2. <보기>의 내용이 발생한 순서대로 옳게 나열한 것은?

— <보 기> —

- ㄱ. 노비추쇄법을 폐지하였다.
- ㄴ. 일부를 제외한 공노비를 해방하였다.
- ㄷ. 새로 태어난 노비 자녀에게 노비 세습을 금지하였다.
- ㄹ. 노비제가 법적으로 완전히 폐지되었다.
- ㅁ. 노비종모법이 시행되었다.

- ① ㄱ → ㄷ → ㄴ → ㄹ → ㅁ
- ② ㄱ → ㅁ → ㄴ → ㄷ → ㄹ
- ③ ㄱ → ㅁ → ㄴ → ㄹ → ㄷ
- ④ ㅁ → ㄱ → ㄴ → ㄷ → ㄹ
- ⑤ ㅁ → ㄱ → ㄷ → ㄴ → ㄹ

3. 삼한에 대한 설명으로 옳은 것만을 모두 고르면?

- ㄱ. 신성지역인 소도가 있었다.
- ㄴ. 제사 의식을 주관하는 천군이 있었다.
- ㄷ. 해마다 10월에 무천이라는 제천행사를 열었다.
- ㄹ. 소국의 지배자는 신지, 읍차 등으로 불렸다.
- ㅁ. 천군과 소도는 제정일치 사회임을 알려준다.

- ① ㄱ, ㄴ, ㄷ
- ② ㄱ, ㄴ, ㄹ
- ③ ㄱ, ㄷ, ㅁ
- ④ ㄴ, ㄹ, ㅁ
- ⑤ ㄷ, ㄹ, ㅁ

4. 다음 자료와 관련된 왕대의 사실로 옳은 것은?

(대왕대비가) 전지(傳旨)하기를, “사람들이 직전(職田)의 폐단이 있다고 많이 말하기에 대신에게 의논하니, 모두 말하기를, ‘우리나라 사대부의 봉록(俸祿)이 박하여 직전을 갑자기 혁파할 수 없다’ 하므로, 나도 또한 그렇게 여겼는데, 지금 들으니 조정 관원이 그 세(稅)를 지나치게 거두어 백성들이 심히 괴롭게 여긴다 한다. ……(중략)…” 하였다.

한명회 등이 아뢰기를, “직전의 세(稅)는 관에서 거두어 관에서 주면 이런 폐단이 없을 것입니다. ……(중략)…” 하였다. 전지하기를, “직전의 세는 소재지의 관리로 하여금 감독하여 거두어 주게 하고, 나쁜 쌀을 금하지 말며, 제향 아문(祭享衙門)의 관리는 금후로는 가려서 정하라” 하였다.

-『조선왕조실록』-

- ① 6조 직계제를 부활시켰다.
- ② 『삼강행실도』와 『효행록』을 간행하였다.
- ③ 국가의 경제기반을 확충하기 위해 호폐법을 실시하였다.
- ④ 여진을 정벌하고 4군 6진을 개척하여 영토를 확장하였다.
- ⑤ 집현전을 계승한 홍문관을 설치하고 경연을 활성화하였다.

5. ㉡에 대한 설명으로 옳지 않은 것은?

㉡은/는 예부에 속하였는데, 신문왕 2년(682)에 설치하였다. 경덕왕이 태학감으로 고쳤으나 혜공왕이 옛 이름대로 하였다.

-『삼국사기』-

- ① 학업 기한은 일반적으로 9년이였다.
- ② 진골 귀족만이 입학할 수 있었다.
- ③ 당의 교육기관인 국자감을 참고하였다.
- ④ 관등이 대나마·나마에 이르면 내보냈다.
- ⑤ 박사(博士)와 조교(助教)가 교육을 담당하였다.

6. 다음과 같은 주장을 편 인물에 대한 설명으로 옳은 것은?

하늘에 가득한 별들이 각기 계(界) 아닌 것이 없다. 성계(星界)로부터 본다면, 지구 역시 하나의 별에 불과할 것이다. 헤아릴 수 없이 수많은 계(界)들이 공중에 흩어져 있는데, 오직 이 지구만이 공교롭게 중앙에 위치해 있다는 것은 이럴 이치가 없다. 이렇기 때문에 계 아닌 것이 없고 자전하지 않는 것이 없다고 하는 것이다. 다른 계에서 보는 것도 역시 지구에서 보는 것과 같을 것이니, 다른 계에서 각기 저마다 중앙이라 한다면 각 성계(星界)가 모두 중계(中界)일 것이다.

- ① 『양반전』을 지어 양반의 허례와 무능을 풍자하였다.
- ② 지전설을 바탕으로 중국 중심의 세계관을 비판하였다.
- ③ 『우서』에서 사농공상의 평등과 전문화를 주장하였다.
- ④ 북한산 신라 진흥왕 순수비를 처음으로 고증하였다.
- ⑤ 『곽우록』에서 토지매매를 제한하는 한전제를 제시하였다.

7. ㉠에 대한 설명으로 옳은 것은?

㉠은/는 우리 동포의 열렬한 성원과 기대 속에 16일에는 경성중앙방송국을 통하여 준비위원의 자격으로 안재홍 씨가 마이 크를 통하여 해방될 우리 민족에게 제1성을 보내었다.

-『매일신보』-

- ① 8·15 해방 이전에 결성되었다.
- ② ‘결정적 시기의 무장봉기’ 전술을 구상하였다.
- ③ 노농군 편성을 목적으로 군사위원회를 조직하였다.
- ④ 강령에서 조선민주공화국 건설을 목표로 내세웠다.
- ⑤ 미군 진주 시까지 치안 유지 활동 등을 수행하였다.

8. (가)의 내용에 해당하는 것만을 <보기>에서 모두 고르면?

1945년 12월 (가) 결정을 둘러싸고 좌우의 대립은 격화되었다. 즉, 신탁통치에 반대하는 우익과 (가) 결정안에 찬성한 좌익이 대립하게 되어 결국 자주 독립의 통일 국가를 수립하지 못한 채 민족 분단의 길로 가게 되었다.

— <보 기> —

- ㄱ. 미·소 공동위원회의 설치
- ㄴ. 임시 민주주의 정부의 수립
- ㄷ. 조선의 완전한 독립을 저해하는 일체의 반동 세력 박멸
- ㄹ. 미·소 공동위원회와 임시정부는 최고 5년간의 신탁통치 협정 작성

- ① ㄱ, ㄴ
- ② ㄱ, ㄷ
- ③ ㄷ, ㄹ
- ④ ㄱ, ㄴ, ㄹ
- ⑤ ㄴ, ㄷ, ㄹ

9. (가), (나) 시기 사이에 있었던 사실로 옳은 것은?

(가) (대마도) 도주에게는 해마다 쌀과 콩을 합하여 200석을 주기로 하였다. 세전선은 50척으로 하였다.

(나) 도주 세전선을 25척으로 감하고, 도주에게 내려준 세사미두 200석 중에 100석을 감하였다.

- ① 삼포왜란이 일어났다.
- ② 을묘왜변이 발발하였다.
- ③ 강화도조약이 체결되었다.
- ④ 백두산 정계비가 세워졌다.
- ⑤ 일본에 회답겸쇄환사가 파견되었다.

10. 밑줄 친 왕의 재위 시기에 있었던 사실로 옳은 것은?

앞은 임금(임금)이 신민의 부모와 같다는 군부일체론(君父一體論)을 강조하였으며, 당파의 시비를 가리지 않고 어느 당파이든 온건하고 타협적인 인물을 등용하여 왕권에 순종시키는 데에 주력하였다. 또한, 기유처분(己酉處分)으로 노·소론 내 온건론자들을 고르게 등용해 초기의 탕평책의 기초를 마련하였는데, 이때 인사정책으로 쌍거호대(雙鵠互對)의 방식을 취하였다.

- ① 대동법을 전국으로 확산시켰다.
- ② 창덕궁 안에 대보단을 설치하였다.
- ③ 재야 산림의 공론을 인정하지 않았다.
- ④ 대유둔전이라는 국영농장을 설치하였다.
- ⑤ 관료의 재교육을 위해 초계문신제를 시행하였다.

11. ㉡ 인물에 대한 설명으로 옳은 것은?

- 이른 아침에 신라인이 작은 배를 타고 왔다. 문득 듣건대, “㉡이/가 신라 왕자와 공모하여 신라국을 징벌하고 곧 그 왕자를 신라국의 왕으로 삼았다”라고 하였다.
- 산 속에 절이 있어 그 이름은 적산법화원인데, 이는 ㉡이/가 처음 세운 것이다. 오랫동안 장전(莊田)을 갖고 있어 양식을 충당할 수 있었다.

-『입당구법순례행기』-

- ① 진성여왕에게 시무책을 바쳤다.
- ② 당에 건너가 빈공과에 합격하였다.
- ③ 당에 견당매물사와 교관선을 보냈다.
- ④ 나라를 세우고 국호를 장안이라 하였다.
- ⑤ 독자적으로 오월과 거란에 사신을 보냈다.

12. <보기>의 상소를 올린 인물의 활동으로 옳지 않은 것은?

— <보 기> —

일단 강화를 맺고 나면 적들이 욕심내는 것은 물화(物貨)를 교역하는 데에 있습니다. 저들의 물화는 대부분 지나치게 사치스럽고 기이한 노리개로, 손으로 만든 것이어서 한정이 없습니다. 반면 우리의 물화는 대부분 백성의 생명이 달린 것으로 땅에서 생산되어 한정이 있습니다. 이같이 피와 살이 되어 백성의 목숨이 걸려 있는 유한한 물화를 가지고 저들의 사치스럽고 기이하며 마음을 졸먹고 풍속을 해치는 물화와 교환한다면, 해마다 그 양이 수만에 이를 것입니다. 그러면 몇 년 지나지 않아 동토(東土) 수천 리에 전답은 황폐해지고 집은 다 쓰러져 다시 보존하지 못하게 되고, 나라도 반드시 뒤따라 망하게 될 것입니다. 이것이 바로 강화가 난리와 멸망을 부르는 까닭의 둘째 이유입니다.

- ① 대마도에서 옥중 순국하였다.
- ② 전북 태인의 무성서원에서 의병을 일으켰다.
- ③ 연해주에서 13도 의군을 결성하여 도총재로 추대되었다.
- ④ 사헌부 장령에 임명되자 국정 개혁을 위한 상소를 올려 흥선대원군을 비판하였다.
- ⑤ 「청토오적소(請討五賊疏)」를 올려 을사조약 파기와 매국 오적 처단을 주장하였다.

13. 밑줄 친 대사에 대한 설명으로 옳은 것은?

무자년 여름 5월 유생 여러 명이 개경에서 내려와 보니 대사가 제자로 받아들여 머리를 깎고 『묘법연화경』을 가르쳐 통달하게 하였다. 임진년 4월 8일 대사가 처음 보현도량을 결성하고 법화삼매를 수행하여, 극락정토에 왕생하기를 구하였는데, 모두 천태삼매의(天台三昧儀)를 그대로 따랐다. 오랫동안 법화참(法華懺)을 수행하고 전후에 권하여 발심(發心)시켜 이 경을 외우도록 하여 외운 자가 1천여 명이나 되었다.

- ① 백련결사를 주도하였다.
- ② 『천태사교의』를 저술하였다.
- ③ 정혜쌍수를 교리로 강조하였다.
- ④ 귀법사의 초대 주지를 역임하였다.
- ⑤ 광종 시기 불교 개혁을 주도하였다.

14. 다음과 같은 주장을 편 인물에 대한 설명으로 옳은 것은?

지금 들으니 원나라 조정에서 우리나라에 행정(行省)을 설치하여 중국의 다른 지방과 같은 행정 구역으로 만든다고 합니다. 만일 그것이 사실이라면 우리나라의 공로는 막론하고라도 세조(世祖) 황제의 조서(詔書)는 어떻게 할 것입니까? ……(중략)…… 폐하의 조서는 실로 온 세상 사람의 복인데 유독 우리나라의 일에 대해서만 세조 황제의 조서를 따르지 않을 수 있겠습니까? ……(하략)……
-『고려사』-

- ① 국학 진흥을 위해 섬학전을 설치하였다.
- ② 9재 학당을 건립하여 후진을 양성하였다.
- ③ 원의 수도에 세워진 만권당에서 활동하였다.
- ④ 단군의 건국 이야기를 『삼국유사』에 수록하였다.
- ⑤ 성리학을 연구하여 ‘동방 이학(理學)의 조(祖)’라고 불렸다.

15. (가) 인물의 활동으로 옳지 않은 것만을 <보기>에서 모두 고르면?

갑인일에 일본 천황이 중궁에 나갔는데, 발해 사신 고제덕 등이 (가)의 교서와 방물을 바쳤다. ……(중략)…… “(가)은/는 대국(大國)을 맡아 외람되게 여러 번(蕃)을 함부로 총괄하며, 고구려의 옛 땅을 회복하고 부여의 습속을 가지고 있습니다. 그러나 다만 너무 멀어 길이 막히고 끊어졌습니다. 어진 이와 가까이하며 우호를 맺고 옛날의 예에 맞추어 사신을 보내어 이웃을 찾는 것이 오늘에야 비롯하게 되었습니다” ……(하략)…… 발해 사신 고제덕 등에게 잔치를 베풀고 활쏘기 대회와 아악료(雅樂寮)의 음악을 내렸다.

-『속일본기』-

- <보 기>
- ㄱ. 수도를 중경현덕부에서 상경용천부로 옮겼다.
 - ㄴ. 대문예로 하여금 흑수말갈을 공격하게 하였다.
 - ㄷ. 산둥지방의 덩저우에 수군을 보내어 당을 공격하였다.
 - ㄹ. 불교의 전문성왕 이념을 이용해 왕권강화를 도모하였다.

- ① ㄱ, ㄷ ② ㄱ, ㄹ ③ ㄴ, ㄷ ④ ㄴ, ㄹ ⑤ ㄷ, ㄹ

16. (가)와 (나) 시기에 있었던 사실로 옳지 않은 것은?

	(가)	(나)	
↑	↑	↑	
중일전쟁 발발	진주만 기습	조국의 광복	

- ① (가) - 국가총동원법 제정
- ② (가) - 가격 등 통제령 제정
- ③ (나) - 학도지원병제 실시
- ④ (나) - 여자정신대근로령 공포
- ⑤ (나) - 육군특별지원병령 공포

17. ㉠ 단체의 활동으로 옳지 않은 것은?

㉠은/는 이에 제1차의 전쟁사를 세상에 공개하노니 이는 결코 과장의 의미에서 나온 것도 아니요, 또한 이것을 선전의 재료로 삼자는 바도 아니다. 다만, 우리의 진실된 마음을 피력하여 한국 삼천만 인민이 모든 굴욕을 받으며 분투해 온 간난신고를 읊 소하여 세간의 인도주의자들의 공론을 구하고, 아울러 이로써 살얼음 위를 걷는 것 같은 위험에 처해 있는 중화민족에게 다소나마 참고와 도움이 된다면 다행일 뿐이다. ……(중략)…… 그러므로 우리 한국은 한국을 위하여 광복을 꾀하려고 하면 반드시 먼저 중국을 구해야 하고, 중국을 위하여 광복을 꾀함에도 한국은 또한 중국을 구해야 할 것이다. 이것이 바로 내가 입이 닳도록 애원하며 우리 한·중 양국 동지에게 다 같이 각성하여 전장에 목숨을 함께 바치자는 까닭이다.

- ① 김지섭이 일왕의 궁성으로 들어가는 니주바시에 폭탄을 던졌다.
- ② 상하이사변 직후 일본 이즈모호를 폭파하기로 하였으나 실패하였다.
- ③ 이덕주는 조선총독부 총독을 저격하고자 계획했으나 사전에 체포되어 실패하였다.
- ④ 이봉창은 도쿄에서 일왕 히로히토를 향해 수류탄을 던졌으나 성공하지 못하였다.
- ⑤ 윤봉길이 상하이 홍콩우 공원에서 일왕 탄생 축하 행사 겸 전승축하식장에 폭탄을 던졌다.

18. ㉠ 단체에 대한 설명으로 옳지 않은 것은?

여기에서 위는 천지의 신에게 묻고 아래로는 동포형제와 상의하여 드디어 하나의 모임을 미국 캘리포니아주 리버사이드에서 발기한다. 그 이름을 ㉠라고/이라고 한다. ㉠은/는 무엇 때문에 일어났는가. 완고하고 부패한 국민 생활을 개혁할 새로운 사상이 시급히 필요하며, 우둔한 국민을 깨우칠 수 있는 새로운 교육이 시급히 필요하고, 식어 버린 뜨거운 마음을 다시 살리기 위해 새로운 제창이 시급히 필요하며, 쇠약해진 원기를 복돋울 새로운 보양이 시급히 필요하고, 타락한 도덕을 되살릴 새로운 윤리가 시급히 필요하며, 쇠퇴한 문화를 부흥시킬 새로운 학술이 시급히 필요하고, 미약한 산업을 일으킬 새로운 모범이 시급히 필요하며, 부패한 정치를 일신할 새로운 개혁이 필요하다.

- ① 외곽단체로 청년학우회를 만들었다.
- ② 대성학교, 오산학교 등을 설립하였다.
- ③ 기관지로 잡지『서우』를 간행하였다.
- ④ 자기회사, 소방직공장, 소연초공장 등을 설립하였다.
- ⑤ 학술 간행 단체인 조선광문회와 서점인 태극서관을 만들었다.

19. ㉠ 기구에 대한 설명으로 옳은 것은?

최우가 자신의 집에 ㉠을/를 두고 백관의 인사를 다루었는데 문사를 뽑아 이에 속하게 하고 필자적(必者赤)이라 불렀다. 옛 제도에는 이부는 문신 인사를, 병부는 무신 인사를 관장하였는데, 근무연한의 순서를 정하여 관리의 근면함과 태만함, 공과, 재능이 있고 없음을 논한 후 모두 문서에 기재한 것을 정안(政案)이라 하였다. ……(중략)…… 정권을 마음대로 하면서부터 관부와 관료를 두고 사사로이 정안을 취하여 관직을 제수하였다.

-『고려사』-

- ① 을묘왜변을 계기로 설치되었다.
- ② 공민왕의 개혁으로 일시 폐지되었다.
- ③ 간쟁, 서경, 봉박의 업무를 담당하였다.
- ④ 원 간섭기에 도평의사사로 명칭이 바뀌었다.
- ⑤ 진도, 제주도로 옮겨가며 조정에 대항하였다.

20. 다음 자료와 관련된 역사적 사실로 옳은 것은?

11일 상오 11시 30분경 마산 중앙부두 앞바다에서 오른쪽 눈에 파편이 박힌 17, 8세의 학생풍 변사체가 발견되어, 3·15 사건 이후 행방불명자를 못 찾고 있던 당지 시민들을 긴장시켰다. 시체는 낚시꾼에 의하여 발견되어 경찰에 신고된 것인데 ……(하략)……

-『매일신보』-

- ① 한·일 학생 간 충돌이 있었다.
- ② 신군부가 비상계엄을 확대하였다.
- ③ 일부 국회의원들은 사사오입 개헌을 비판하였다.
- ④ 정·부통령 부정선거에 학생, 시민들이 항의하였다.
- ⑤ 직선제 개헌을 요구하는 학생, 시민들의 시위가 있었다.

사 회

1. 다음에 나타난 사회·문화 현상을 바라보는 관점에 대한 설명으로 옳은 것은?

사람들은 타인과 공적인 장소를 함께 점유해야 하는 경우에 일부러 자는 척하거나, 무표정한 표정으로 타인에 대한 관심이 없다는 표정을 짓는다. 이는 모르는 사람과의 소통을 피하기 위한 나름의 적극적이고 의도된 행위이다. 대부분의 사람들은 그 의미를 수용하고 이러한 태도를 보이는 사람들에게 거리를 두게 된다. 이렇게 비사회적으로 보이는 행위 역시 사람들이 서로를 의식하고 어떤 상황에 공통된 의미를 둘 때 나타나는 사회적 행위이다.

- ① 의미의 교환을 통한 공유된 경험의 세계를 강조한다.
- ② 사회적 행위자의 주체적 능동성을 간과하는 경향이 있다.
- ③ 사회 구조가 재생산되는 과정을 해석하는데 주안점이 있다.
- ④ 사회 변동과 사회 발전의 예측을 위한 실증적 연구를 강조한다.
- ⑤ 사회 제도 등이 연관성을 갖고 기능을 수행하면서 사회가 유지된다고 본다.

2. ㉠과 ㉡의 이론에 대한 설명으로 옳은 것은?

사회 계층화 현상을 설명하는 사회학 이론은 대표적으로 ㉠과 ㉡으로 나눌 수 있다. ㉠은 사회 계층을 경제력, 권력, 위신 등 다원적 요인에 의해 구분한다. 이에 비하여 ㉡은 생산 수단의 소유 여부라는 단일 요소로 사회 계층을 범주화한다.

- ① ㉠은 ㉡보다 지위 불일치 현상을 설명하는 데 적합하다.
- ② ㉠은 ㉡보다 동일 집단 구성원 간의 귀속 의식을 강조한다.
- ③ ㉡은 ㉠과 달리 사회 불평등 현상을 미시적으로 조망한다.
- ④ ㉠은 ㉡과 달리 사회 계층을 불연속적으로 구분된 상태로 본다.
- ⑤ ㉠은 ㉡보다 사회 불평등이 자본주의의 구조적 문제에 기인한다고 본다.

3. 갑이 행사할 수 있는 기본권의 특징에 대한 설명으로 옳은 것은?

갑은 을을 살해했다는 누명을 쓰고 구속되어 형을 살고 있었다. 그런데 다른 수사 과정에서 을의 살해자가 병이라는 증거가 나타나게 되자 갑은 무죄 판결을 받고 석방되었다.

- ① 국민 주권의 원리를 구체화한다.
- ② 소극적·포괄적 권리로서의 성격을 갖는다.
- ③ ‘국가로부터의 자유’ 확보를 목적으로 한다.
- ④ 다른 기본권을 보장하기 위한 수단이 된다.
- ⑤ 기본권 중 가장 최근에 등장한 현대적 권리이다.

4. A, B, C 세 나라의 현재 정부 형태가 갖는 특징을 정리한 것이다. 이에 대한 추론으로 옳은 것만을 <보기>에서 모두 고르면?

(○ : 그렇다, × : 아니다)

항목	A	B	C
입법부와 행정부의 구성이 독립적인가?	○	×	○
정부가 법률안 제출권을 가지고 있는가?	×	○	○
의회 의원이 행정부 각료를 겸할 수 있는가?	×	○	○
사법부의 독립은 철저히 보장되고 있는가?	○	○	○
의회 내에 과반수 의석을 점유한 정당이 있는가?	○	×	×

<보 기>

- ㄱ. A국은 입법부와 행정부가 충돌할 가능성이 가장 낮다.
- ㄴ. B국은 정치적 책임 소재가 불분명한 정부가 구성될 수 있다.
- ㄷ. C국은 대통령제와 의원 내각제의 혼합형 정부 형태라고 할 수 있다.
- ㄹ. 세 나라 모두 법 집행 기관에 대한 자율성을 보장하고 있다.

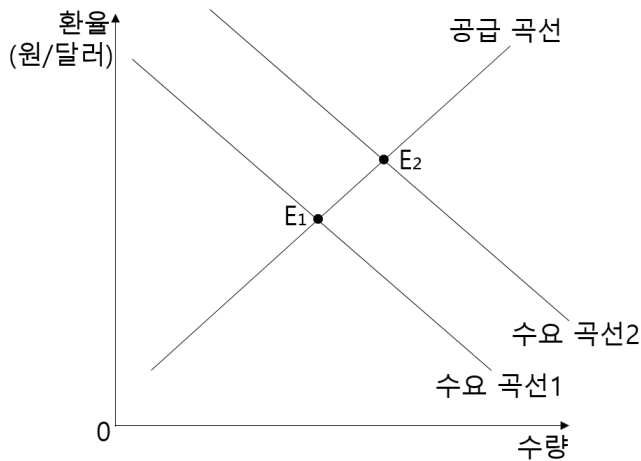
- ① ㄱ, ㄴ
- ② ㄱ, ㄷ
- ③ ㄴ, ㄷ
- ④ ㄴ, ㄹ
- ⑤ ㄷ, ㄹ

5. A국에서 제정한 법에 대한 추론으로 옳은 것은?

최근 A국 아파트의 평균 분양가가 제곱미터당 1,000만 원에 형성되면서 급격히 상승하자 기존 아파트 시세도 덩달아 상승하였고, 국민들의 주택 구입 부담이 크게 증가하였다. 이에 A국은 아파트 분양가가 제곱미터당 800만 원을 넘을 수 없다는 법을 제정하였다.

- ① 주택 경기를 활성화하는 효과가 있다.
- ② 주택 공급자를 보호하는 것이 목적이다.
- ③ 주택 시장에서 생산자 잉여가 증가할 것이다.
- ④ 주택 시장에서 초과 수요를 발생시킬 수 있다.
- ⑤ 최저 가격 제도에 해당하는 가격 통제 정책이다.

6. 외환 시장의 상황을 나타낸 것이다. 균형점이 E₁에서 E₂로 이동할 수 있는 요인으로 옳은 것은?



- ① 해외 경기 침체
- ② 국내 물가 하락
- ③ 국내 이자율 상승
- ④ 외국 상품의 선호 증가
- ⑤ 외국인의 국내 투자 확대

7. 「대한민국헌법」 조문의 일부이다. 이에 나타난 헌법의 기본 원리를 실현하기 위한 장치로 적절하지 않은 것은?

제1조 ① 대한민국은 민주공화국이다.
② 대한민국의 주권은 국민에게 있고, 모든 권력은 국민으로부터 나온다.

- ① 국민 투표
- ② 권력 분립
- ③ 민주적 선거 제도
- ④ 국민의 참정권 보장
- ⑤ 언론·출판·집회·결사의 자유 보장

8. 어느 법률 조문의 일부이다. 밑줄 친 근로조건의 기준으로 옳지 않은 것은?

제1조(목적) 이 법은 헌법에 따라 근로조건의 기준을 정함으로써 근로자의 기본적 생활을 보장, 향상시키며 균형 있는 국민경제의 발전을 꾀하는 것을 목적으로 한다.

- ① 임금은 통화로 직접 근로자에게 그 전액을 지급해야 한다.
- ② 근로 시간은 원칙적으로 1일 8시간, 1주 40시간을 초과할 수 없다.
- ③ 근로 시간이 8시간인 경우 1시간 이상 휴게 시간을 근로 시간 도중에 주어야 한다.
- ④ 근로자를 해고할 때 해고의 사유와 그 시기를 반드시 서면으로 알려 주어야 한다.
- ⑤ 부당해고를 당한 근로자는 부당해고가 있었던 날로부터 6개월 이내에 노동위원회에 구제를 신청할 수 있다.

9. 자본주의의 형태별 등장 배경과 그 특징을 정리한 것이다. (가)~(다)에 대한 설명으로 옳은 것은?

자본주의의 형태	(가)	(나)	(다)
등장 배경	세계 대공황	1차 산업 혁명	1차, 2차 석유 파동
특징	· 정부 지출 확대 · 복지 국가 추구	· 시장의 자율성 최대 보장 · 야경 국가 추구	· 규제 완화 · 복지 지출 삭감

- ① 자본주의는 (가)→(나)→(다)의 순서로 변천해 왔다.
- ② (나)에서는 형평성의 실현을 최고의 가치로 추구하였다.
- ③ (다)에서는 '보이지 않는 손'의 기능을 부정하였다.
- ④ 사익 추구를 제한하는 경우는 (나)보다 (가)에서 많았다.
- ⑤ 정부의 개입 정도는 (다)보다 (나)에서 강했다.

10. 밑줄 친 현상으로 인해 나타날 결과로 옳은 것은? (단, X재와 Y재 모두 수요와 공급 법칙을 따른다)

X재와 Y재는 보완재이다. 두 재화 모두 수요가 비탄력적이다. 이 상황에서 X재의 생산비용이 큰 폭으로 증가하였다.

- ① X재 공급자의 총수입은 증가한다.
- ② Y재 공급자의 총수입은 증가한다.
- ③ X재 가격은 하락하고 거래량은 증가한다.
- ④ Y재 가격은 상승하고 거래량은 증가한다.
- ⑤ X재 공급이 감소하고 Y재 수요가 증가한다.

11. 밑줄 친 ㉠~㉣에 대한 설명으로 옳은 것은?

갑은 “㉠상품 홍보 영상물에 대한 높은 접촉 빈도가 상품 구매 욕구에 미치는 영향”이라는 ㉡연구 주제를 선정하고 연구를 진행하였다. 갑은 먼저 ㉢연구 대상자 500명을 선정하여 무작위로 각각 250명씩 A, B 두 집단으로 나누었다. ㉣A집단에게는 일정 기간 상품 홍보 영상물을 빈도 높게 노출시키고, B집단에게는 동일 기간 동안 상품 홍보 영상물을 거의 노출시키지 않았다. 이후에 두 집단에게 ㉠상품 구매 욕구를 해당 상품 구매를 위하여 지불하고자 하는 금액으로 보고 이에 대한 자료를 수집하여 분석하였다.

- ① ㉠은 종속 변수이다.
- ② ㉡에서 연구자의 주관은 배제되어야 한다.
- ③ ㉢은 모집단이다.
- ④ ㉣은 통제 집단이다.
- ⑤ ㉣은 조작적 정의에 해당한다.

12. 소속감을 기준으로 사회 집단을 구분한 것이다. (가), (나)에 대한 설명으로 옳은 것은?

(가) 개인이 소속되어 있으며 소속감을 느끼고 있는 집단
(나) 개인이 소속되어 있지 않으면서 소속감을 느끼지 못하는 집단

- ① (가)는 다른 집단과의 경쟁을 통해 전체 사회 발전과 통합에 기여한다.
- ② (가)와 준거 집단이 일치하면 (가)에 대한 만족감이 높아진다.
- ③ (나)는 특정 목적에 의해 의도적으로 만들어진 집단이다.
- ④ (가)와 (나)의 경계와 범위는 고정되어 변하지 않는다.
- ⑤ (가)는 공동 사회(공동체), (나)는 이익 사회(결사체)라고 한다.

13. 다음 글에 대한 분석으로 옳은 것만을 <보기>에서 모두 고르면?

매월 500만 원의 월급을 받는 갑은 식당을 창업하기 위해 회사를 그만두려고 한다. 갑이 식당을 경영하면 월 매출액이 최소 1,000만 원에서 최대 1,300만 원이고, 월 비용은 매출액과 상관없이 매월 700만 원이 될 것으로 예상된다.

<보 기>
ㄱ. 갑이 식당을 창업하는 것은 합리적인 선택이다.
ㄴ. 월 비용 700만 원은 식당 경영의 기회비용에 포함된다.
ㄷ. 월 매출액에 상관없이 식당 경영의 기회비용은 일정하다.
ㄹ. 월 매출액이 1,100만 원이라면 식당 경영이 직장 생활보다 이득이다.

- ① ㄱ, ㄴ
- ② ㄱ, ㄷ
- ③ ㄴ, ㄷ
- ④ ㄴ, ㄹ
- ⑤ ㄷ, ㄹ

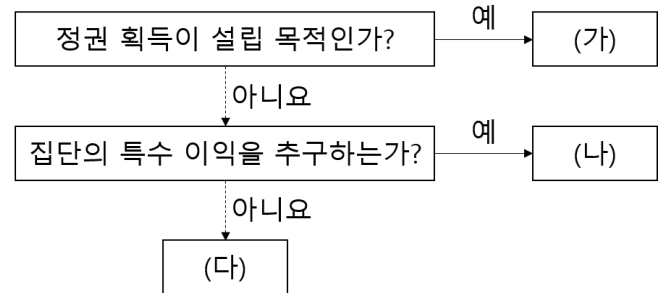
14. (가)~(라)에 대한 설명으로 옳은 것만을 <보기>에서 모두 고르면?

(가) 2011년 9월 21일, 대법원장 후보자에 대한 임명 동의안이 국회에서 가결되었다.
(나) 2014년 12월 2일, 국군 부대의 해외 파견 연장 동의안이 국회에서 가결되었다.
(다) 2015년 11월 30일, 대한민국 정부와 중화인민공화국 정부 간의 자유무역협정(FTA) 비준 동의안이 국회에서 가결되었다.
(라) 2020년 4월 29일, 전 국민에게 긴급재난지원금 지급 등을 위한 12조 2,000억 원 규모의 2차 추가경정예산안이 국회에서 가결되었다.

<보 기>
ㄱ. (가)는 국회의 국가 기관 구성 권한을 보여 주는 사례이다.
ㄴ. (나)는 국회의 국정 감사·통제 권한을 보여 주는 사례이다.
ㄷ. (다)는 국회의 재정에 관한 권한을 보여 주는 사례이다.
ㄹ. (라)는 국회의 입법에 관한 권한을 보여 주는 사례이다.

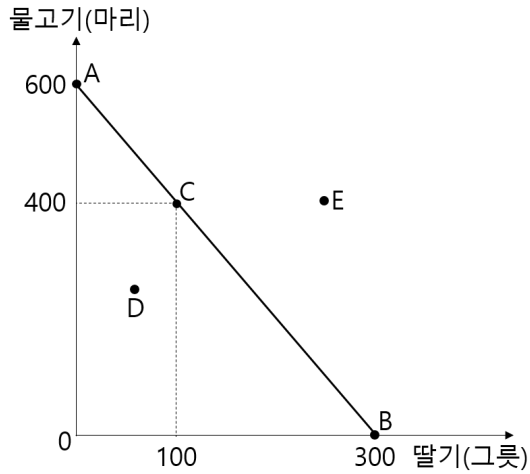
- ① ㄱ, ㄴ
- ② ㄱ, ㄷ
- ③ ㄴ, ㄷ
- ④ ㄴ, ㄹ
- ⑤ ㄷ, ㄹ

15. 정치 참여의 주체를 나타낸 것이다. 이에 대한 설명으로 옳은 것은? (단, (가)~(다)는 각각 시민 단체, 이익 집단, 정당 중 하나이다)



- ① (가)에는 법률에 규정된 공무원, 교사, 외국인도 가입할 수 있다.
- ② (나)의 대표적 예로 환경운동연합, 국경없는의사회를 들 수 있다.
- ③ (다)는 정부와 정치인의 활동을 감시하고 견제한다.
- ④ (가)와 달리 (다)는 국민의 의사나 요구를 국정에 반영한다.
- ⑤ (다)와 달리 (나)는 구성원들의 공통의 인식을 공유하고 정책 결정 과정에 영향을 미친다.

16. 선분 \overline{AB} 는 무인도에서 혼자 생활하는 사람이 한 달 동안 최대 생산할 수 있는 물고기와 딸기의 조합을 나타낸다. 이에 대한 설명으로 옳지 않은 것은?



- ① 두 재화 간의 기회비용이 일정하다.
- ② 점 C는 점 A보다 효율적인 생산량이다.
- ③ 점 D는 점 B보다 비효율적인 생산량이다.
- ④ 점 E는 같이 생산할 수 없는 생산량이다.
- ⑤ 물고기 한 마리의 기회비용은 딸기 0.5 그릇이다.

17. 다음에 나타난 문화의 속성에 대한 설명으로 옳은 것은?

한국인은 고개 숙여 인사하고, 프랑스인은 볼에 뽀뽀하는 식으로 인사한다. 태국인은 두 손을 모아 합장하고 고개 숙여 인사한다.

- ① 타고나는 것이 아니라 후천적으로 습득된다.
- ② 고정된 것이 아니라 시간이 흐르면서 변한다.
- ③ 전승 과정에서 새로운 요소가 더해져 풍부해진다.
- ④ 한 사회 구성원이 공통으로 가지는 생활 양식이다.
- ⑤ 여러 구성 요소가 서로 유기적으로 관련되어 있다.

18. 재산 소득에 해당하는 것만을 <보기>에서 모두 고르면?

<보 기>

ㄱ. 상여금	ㄴ. 경조금
ㄷ. 주식 배당금	ㄹ. 예적금 이자

- ① ㄱ, ㄴ
- ② ㄱ, ㄷ
- ③ ㄴ, ㄷ
- ④ ㄴ, ㄹ
- ⑤ ㄷ, ㄹ

19. 사회 변동을 설명하는 (가), (나) 이론에 대한 설명으로 옳은 것만을 <보기>에서 모두 고르면?

(가) 저개발 국가들이 선진 국가들의 공통된 특징을 구비하는 과정을 바람직한 사회 발전으로 간주하는 이론이다. 제3세계 국가들이 선진 국가의 특징으로 수렴되는 과정을 거치는 것을 일반적인 사회 변동의 방향으로 본다.

(나) 제3세계 국가들의 저발전의 원인을 국제 사회의 힘의 불균형 관계로 설명한다. 20세기 후반의 신흥 국가들이 선진 국가들의 발전 과정과는 다른 과정을 거치고 있으며, 이들은 빈곤의 악순환을 겪는 경우가 허다하다고 본다.

<보 기>

ㄱ. (가)는 사회 발전을 서구화와 동일시하는 진화론적 사고를 전제한다.

ㄴ. (나)는 세계가 중심부와 주변부로 나뉘어 있다고 본다.

ㄷ. (나)는 저발전의 원인을 중심부와 주변부의 단절로 본다.

ㄹ. (가)와 (나)는 모두 능력주의로의 전환을 사회 변동의 핵심 요건으로 본다.

- ① ㄱ, ㄴ
- ② ㄱ, ㄷ
- ③ ㄴ, ㄷ
- ④ ㄴ, ㄹ
- ⑤ ㄷ, ㄹ

20. 근대 민법 3대 원칙에 관한 설명으로 옳지 않은 것은?

(가) 자신의 행위에 따른 과실에 대해서만 책임을 진다.

(나) 계약이나 법률 관계는 개인의 자유로운 의사에 따른다.

(다) 개인이 소유한 재산을 국가나 타인이 간섭하거나 제한하지 못한다.

- ① 근대 민법의 원칙은 기본적으로 개인주의, 자유주의, 합리주의 사상에 기반하고 있다.
- ② 오늘날 자본주의 사회에서는 약자의 보호를 위해 이 원칙에 예외를 두어 적용한다.
- ③ 고의나 과실이 아니라도 환경 오염의 원인 제공자에게는 (가)의 원칙을 수정하여 무과실 책임의 원칙이 적용된다.
- ④ 현대 민법에서 (나)의 원칙은 공공의 이익을 위협해서는 안된다는 내용이 추가되었다.
- ⑤ (다)의 원칙은 자유주의에 기초한 현대 민주주의 국가의 근간을 이루는 원칙이므로, 반드시 지켜져야 한다.

자동차구조원리 및 도로교통법규

1. 가솔린 기관의 노킹(Knocking) 원인 및 방지책에 대한 설명으로 옳지 않은 것은?

- ① 노킹은 점화시기가 너무 빠를 때 발생한다.
- ② 노킹은 기관이 과열되었을 때 발생한다.
- ③ 공연비를 이론 혼합비 부근으로 조정하여 노킹을 방지한다.
- ④ 압축비를 낮게 하여 노킹을 방지한다.
- ⑤ 화염 전파 속도를 빠르게 하여 노킹을 방지한다.

2. 가솔린 직접 분사(GDI : Gasoline Direct Injection) 엔진의 구성 및 효과에 대한 설명으로 옳지 않은 것은?

- ① 연료를 흡입 공기와 잘 혼합할 수 있도록 강한 소용돌이를 일으키는 스월 인젝터(swirl injector)가 설치되어 있다.
- ② 점화 플러그 주위에 농후한 혼합비가 형성되도록 바울 인 피스톤(bowl in piston)을 사용한다.
- ③ 인젝터 드라이버를 별도로 설치하여 고압(약 50 bar) 인젝터를 구동한다.
- ④ 희박공연비로 운전하므로 특별한 부가장치없이 탄화수소(HC), 일산화탄소(CO), 질소산화물(NOx)이 감소된다.
- ⑤ 연료 압력의 변화를 감지하는 센서 신호를 이용하여 전자 제어부가 연료 분사량을 보정한다.

3. 전동식 파워 스티어링(EPS : Electric Power Steering)을 적용할 때 모터를 구동하는 전자제어부의 입력 신호로 옳은 것은?

- ① 크랭크각 센서(Crank Angle Sensor)
- ② 토크 센서(Torque Sensor)
- ③ 휠 스피드 센서(Wheel Speed Sensor)
- ④ 가속도 센서(Acceleration Sensor)
- ⑤ 초음파 센서(Ultrasonic Sensor)

4. 하이브리드 자동차에서 모터 회전자의 위치 및 회전수를 감지하는 장치로 옳은 것은?

- ① 컨버터(Converter)
- ② 레졸버(Resolver)
- ③ 스피드 센서(Speed Sensor)
- ④ 스로틀 포지션 센서(Throttle Position Sensor)
- ⑤ 인버터(Inverter)

5. 전자제어 가솔린기관의 연료 분사에 대한 설명으로 옳지 않은 것은?

- ① 급가속할 때 연료 분사량은 순간적으로 기본 분사량보다 증가한다.
- ② 산소센서 전압이 0.9 V일 경우 연료 분사량은 기본 분사량보다 증가한다.
- ③ 흡입공기 온도가 20 °C 이하일 때 연료 분사량은 기본 분사량보다 증가한다.
- ④ 냉각수 온도가 80 °C 이하일 때 연료 분사량은 기본 분사량보다 증가한다.
- ⑤ 대기 압력이 표준 대기 압력(1기압)보다 높을 때 연료 분사량은 기본 분사량보다 증가한다.

6. 12 V의 전원을 사용하는 자동차에서 상향 전조등 1개의 전력은 30 W이다. 이 자동차에 2개의 전조등을 점등하였을 때 흐르는 전류 값으로 옳은 것은?

- ① 0.4 A
- ② 2.5 A
- ③ 5 A
- ④ 60 A
- ⑤ 360 A

7. 자동차가 비포장도로를 주행하다 한 쪽 바퀴가 진흙에 빠져 더 이상 주행할 수 없는 상태가 되었다. 이러한 상황이 발생하게 된 원인과 해결방안으로 옳은 것은?

- ① 자동차에 장착된 차동제한장치(LSD : Limited Slip Differential)의 기능 때문에 나타나는 현상이다.
- ② 자동변속기의 변속 시점이 변해서 나타나는 일시적인 현상이다.
- ③ 등속으로 동력을 전달하는 차축 구조상 나타나는 현상이다.
- ④ 공회전하는 바퀴에 구동 저항을 주도록 조치하면 주행할 수 있다.
- ⑤ 자동변속기의 변속단을 낮추어 바퀴에 전달되는 구동 토크를 증대시키면 주행할 수 있다.

8. 마찰 클러치의 고장 특성에 대한 설명으로 옳지 않은 것은?

- ① 클러치 스프링의 장력이 감소하면 클러치가 미끄러진다.
- ② 클러치 판의 런-아웃(run-out)이 과대하면 동력 차단이 어려워진다.
- ③ 클러치 릴리스 레버의 높이가 서로 다르면 출발할 때 진동이 발생한다.
- ④ 클러치 스프링의 자유고가 감소하면 클러치가 미끄러진다.
- ⑤ 클러치 페달의 자유간극이 크면 동력 차단이 수월해진다.

9. 기관의 구동 성능을 불량하게 하는 주요 현상으로 스로틀 밸브(Throttle Valve)가 열려 있는 상태에서 가속할 때 일시적으로 가속이 지연되는 현상은?

- ① 헤지테이션(Hesitation) 현상
- ② 스톨링(Stalling) 현상
- ③ 스템블(Stumble) 현상
- ④ 서징(Surging) 현상
- ⑤ 스트레치(Stretch) 현상

10. 자동차 자세제어장치(VDC: Vehicle Dynamic Control)를 이용하여 수행할 수 있는 제어로 옳지 않은 것은?

- ① ABS(Antilock Brake System) 제어
- ② 토(Toe) 제어
- ③ EBD(Electronic Brake force Distribution) 제어
- ④ 요 모멘트(Yaw Moment) 제어
- ⑤ TCS(Traction Control System) 제어

11. 「도로교통법」상 정비불량에 해당한다고 인정하는 차를 정지시켜 그 장치를 점검·단속할 수 있는 권한을 가진 공무원의 소속 기관은?

- ① 국토교통부
- ② 행정안전부
- ③ 지방자치단체
- ④ 경찰청
- ⑤ 도로관리청

12. 차로와 관련된 규정에 대한 설명으로 옳지 않은 것은?

- ① 전용차로는 차의 종류나 승차인원에 따라 지정된 차량만 통행할 수 있는 차로이다.
- ② 전용차로의 종류에는 버스전용차로, 다인승전용차로, 자전거전용차로가 있다.
- ③ 고속도로 외의 도로에서 왼쪽 차로는 승용자동차 및 경형·소형·중형 승합자동차가 통행할 수 있다.
- ④ 자전거·우마는 도로의 가장 오른쪽에 있는 차로로 통행하여야 한다.
- ⑤ 편도 3차로 이상인 고속도로에서 도로상황으로 인하여 부득이 시속 80킬로미터 미만으로 통행할 수밖에 없는 경우에는 대형 승합자동차도 1차로를 통행할 수 있다.

13. 운전면허가 취소되는 상황에 해당하는 경우로 옳은 것은?

- ① 1개월간 벌점 누산 점수가 51점인 운전자
- ② 6개월간 벌점 누산 점수가 101점인 운전자
- ③ 1년간 벌점 누산 점수가 120점인 운전자
- ④ 2년간 벌점 누산 점수가 200점인 운전자
- ⑤ 3년간 벌점 누산 점수가 300점인 운전자

14. 운전면허 종류에 따라 운전이 가능한 차종이 바르게 짝지어지지 않은 것은?

- ① 제2종 소형면허 - 125cc 원동기장치 자전거
- ② 제2종 보통면허 - 적재중량 3.5톤 화물 자동차
- ③ 제1종 보통면허 - 적재중량 12톤 화물 자동차
- ④ 제1종 대형면허 - 아스팔트 살포기
- ⑤ 제1종 특수면허 - 적재중량 4톤 화물 자동차

15. 주취운전에 대한 설명으로 옳지 않은 것은?

- ① 개인형 이동장치도 술에 취한 상태로 운전하면 도로교통법에 따라 처벌된다.
- ② 운전이 금지되는 술에 취한 상태의 기준은 운전자의 혈중알코올농도가 0.03퍼센트 이상인 경우이다.
- ③ 주취운전으로 적발되면 형사책임과 행정책임을 모두 져야 한다.
- ④ 주취상태에서 운전하였다고 인정할만한 상당한 이유가 있음에도 경찰공무원의 측정요구에 불응한 사람은 운전면허가 정지된다.
- ⑤ 경찰공무원은 교통의 안전과 위험방지를 위하여 필요하다고 인정될 때에는 호흡조사로 운전자가 술에 취하였는지를 측정할 수 있다.

16. 어린이통학버스 차량으로 사용할 수 없는 차량은?

- ① 충분히 넓은 12인승 차량
- ② 9인승 차량이나, 장애아동의 승·하차 편의를 위하여 8인승으로 정원 축소된 차량
- ③ 어린이 1명을 어른으로 간주하여 충분히 공간 확보한 7인승 차량
- ④ 학원 버스의 경우 28인승 차량
- ⑤ 등하교 버스의 경우 45인승 차량

17. 정차 및 주차가 금지된 곳에 대한 설명으로 옳지 않은 것은?

- ① 소방용수시설 또는 비상소화장치가 설치된 곳으로부터 10미터 이내
- ② 교차로·횡단보도·건널목이나 보도와 차도가 구분된 도로의 보도
- ③ 교차로의 가장자리나 도로의 모퉁이로부터 5미터 이내인 곳
- ④ 안전지대가 설치된 도로에서는 그 안전지대의 사방으로부터 각각 10미터 이내인 곳
- ⑤ 건널목의 가장자리 또는 횡단보도로부터 10미터 이내인 곳

18. 교통법규를 위반한 운전자에게 적용되는 벌점 중 그 점수가 다른 것은?

- ① 안전거리 미확보
- ② 도로 통행 차마에서 물건을 바깥으로 버리는 행위
- ③ 보행자 보호 불이행
- ④ 고속도로 갓길 통행
- ⑤ 정지선 위반

19. 모든 차의 운전자가 준수해야 할 안전운전의무에 대한 설명으로 옳은 것은?

- ① 운전 중에는 어떠한 경우에도 휴대전화를 사용해서는 안 된다.
- ② 영상표시장치를 통하여 운전자가 운전 중 자동차 등의 좌우 또는 전후방을 볼 수 있도록 도움을 주는 영상은 표시되도록 할 수 있다.
- ③ 자동차전용도로를 운행하는 자동차의 운전자는 특별한 사유가 없는 한 옆 좌석의 동승자에게만 좌석 안전띠를 매도록 할 수 있다.
- ④ 모든 차의 운전자는 일반 도로에서 진로를 바꾸려고 할 때 행위지점에 이르기 전 20미터 이전부터 그 행위가 끝날 때까지 신호하여야 한다.
- ⑤ 자동차등을 이용하여 형법상 특수상해, 특수협박 또는 특수손괴 행위를 한 경우, 이를 보복운전이라 하며 과태료가 부과된다.

20. 긴급자동차(소방차)에 대한 특례의 내용으로 옳지 않은 것은?

- ① 중앙선 침범 금지의 허용
- ② 끼어들기 금지의 허용
- ③ 앞지르기 금지의 허용
- ④ 정차 및 주차 금지의 허용
- ⑤ 철길 건널목 통과 허용