

## 통신이론

문 1. 연속랜덤변수  $X$ 의 확률밀도함수(probability density function)가

$$f_X(x) = \begin{cases} \frac{3}{8}x^2, & \text{for } 0 \leq x \leq 2 \\ 0, & \text{otherwise} \end{cases} \text{일 때 } E[2X+1] \text{는? (단 } E[\cdot] \text{는}$$

랜덤변수의 기댓값이다)

- ① 3                                      ② 3.5  
③ 4                                      ④ 4.5

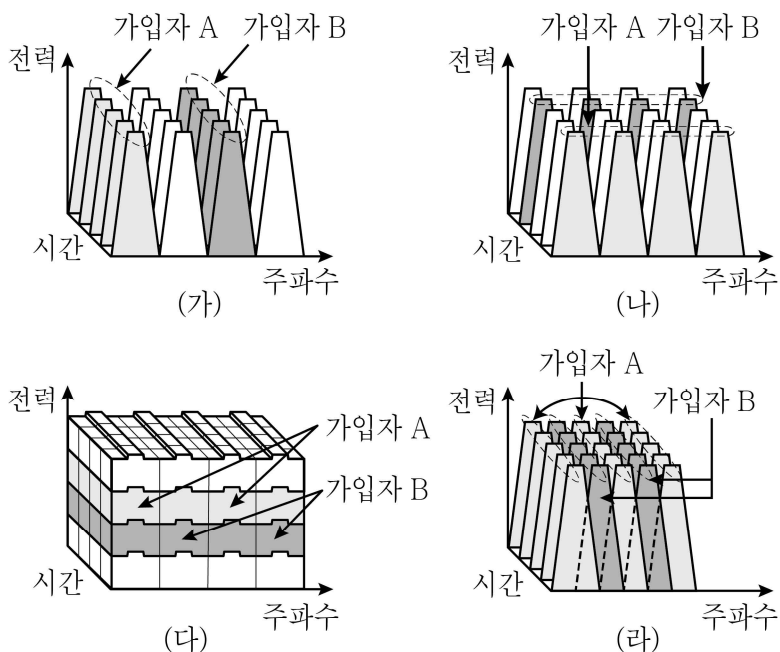
문 2. 에너지 신호와 전력 신호에 대한 설명으로 옳지 않은 것은?

- ① 신호가 유한한 에너지값을 가질 경우 에너지 신호라고 한다.  
② 에너지 신호는 평균 전력이 0이다.  
③ 일반적으로 주기 신호는 전력 신호로 분류된다.  
④ 전력 신호의 에너지는 유한하다.

문 3. 아날로그 변조의 대표적 방식인 진폭 변조에 대한 설명으로 옳지 않은 것은?

- ① 양측파대 변조의 두 개의 측파대 중에서 하나의 측파대만 전송해도 전송 신호에서 정보의 손실은 발생하지 않는다.  
② 양측파대 전송 반송파 변조(Double Side Band Transmitted Carrier)의 경우 포락선 검파에 의한 간단한 복조도 가능하다.  
③ 양측파대 중 원하지 않는 측파대를 완전히 제거하여 전송하는 방식을 잔류 측파대 변조(Vestigial Side Band)라 한다.  
④ 단측파대 변조(Single Side Band)는 양측파대 변조 방식에 비해 절반의 대역폭만 사용한다.

문 4. 각각의 그림과 설명이 나타내는 다중접속방식을 바르게 나열한 것은?



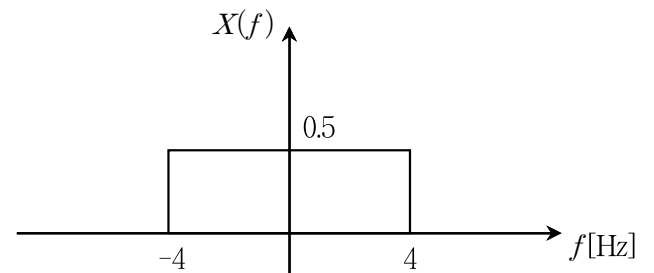
- (가) 가입자에게 겹치지 않는 서로 다른 주파수 대역을 배정  
(나) 가입자에게 겹치지 않는 서로 다른 시간 슬롯을 배정  
(다) 두 가입자가 시간과 주파수를 공유하며, 직교하는 코드를 서로 다른 전력으로 전송  
(라) 주파수 대역에서 가입자 간 부채널이 중첩되지만, 직교성을 유지하는 서로 다른 부채널을 하나 이상 배정하며, 동일 시간에 여러 가입자에게 전송

- |        |      |       |       |
|--------|------|-------|-------|
| (가)    | (나)  | (다)   | (라)   |
| ① TDMA | FDMA | CDMA  | OFDMA |
| ② TDMA | FDMA | OFDMA | CDMA  |
| ③ FDMA | TDMA | CDMA  | OFDMA |
| ④ FDMA | TDMA | OFDMA | CDMA  |

문 5.  $Y$ 가 구간  $[0, a]$ 에서 균일 확률밀도함수(uniform probability density function)를 갖는 연속랜덤변수일 때, 평균  $E[Y]$ 와 분산  $Var[Y]$ 는? (단,  $a > 0$  이다)

- | $E[Y]$          | $Var[Y]$         |
|-----------------|------------------|
| ① $\frac{a}{2}$ | $\frac{a^2}{12}$ |
| ② 0             | $\frac{a^2}{12}$ |
| ③ $\frac{a}{2}$ | 0                |
| ④ $\frac{a}{2}$ | $\frac{a^2}{4}$  |

문 6. 신호  $x(t)$ 의 푸리에 변환  $X(f)$ 가 그림과 같을 때, 신호  $x(t)$ 의 에너지[joule]는?



- ① 2  
② 4  
③ 20  
④ 40

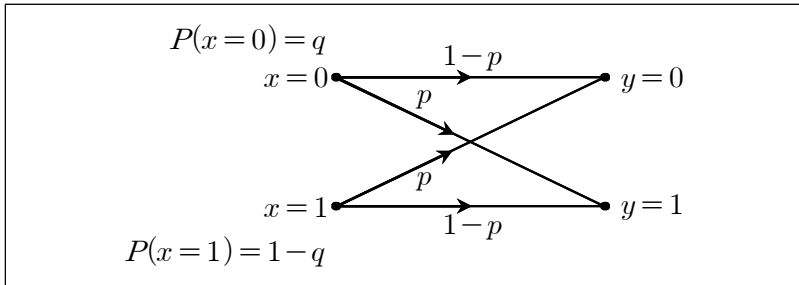
문 7. 4개의 신호  $s_0, s_1, s_2, s_3$ 가 각각  $1/2, 1/4, 1/6, 1/12$ 의 확률로 발생하는 정보원이 있다. 각 신호들이 통계적으로 독립일 때, 정보원의 엔트로피(entropy)는? (단,  $\log_2(6) \approx 2.5$ 로 계산한다)

- ①  $\frac{14.5}{12}$   
②  $\frac{16.5}{12}$   
③  $\frac{18.5}{12}$   
④  $\frac{20.5}{12}$

문 8. 오류정정부호(error control code)에 해당하지 않는 것은?

- ① BCH 부호  
② Reed Solomon 부호  
③ Lempel Ziv 부호  
④ 길쌈 부호

- 문 9. 그림과 같은 이진 대칭 채널(binary symmetric channel)에서 정보원  $x$ 의 0과 1의 발생확률은 각각  $P(x=0)=q$ ,  $P(x=1)=1-q$ 이고, 교차확률은  $P(y=0|x=1)=P(y=1|x=0)=p$ 이다. 이러한 채널에서  $y=0$ 이 수신되었을 때,  $x=0$ 일 확률  $P(x=0|y=0)$ 는? (단,  $0 < p < \frac{1}{10}$ ,  $\frac{1}{3} < q < \frac{1}{2}$ 이다)



- ①  $\frac{(1-p)q}{(1-p)q+p(1-q)}$   
 ②  $\frac{(1-q)p}{(1-p)q+p(1-q)}$   
 ③  $\frac{(1-p)q}{pq+p(1-q)}$   
 ④  $\frac{(1-p)q}{qp+q(1-p)}$

- 문 10. 터보 코드(turbo code)에 대한 설명으로 옳지 않은 것은?

- ① 연접 부호화 방식을 사용한다.  
 ② 터보 복호화 알고리즘은 반복 복호화 과정을 사용한다.  
 ③ 인터리빙 기법을 사용한다.  
 ④ 복호화에서는 성능 향상을 위해 경관정 알고리즘을 사용한다.

- 문 11. 정현파 메시지 신호  $m(t)$ 를 반송파  $\cos(4000\pi t)$ 로 양측파대 억압 반송파 변조(DSB-SC)를 하였다. 변조된 신호의 상측파대(USB)와 하측파대(LSB) 주파수의 양(+)의 값을 각각  $f_{USB}$ ,  $f_{LSB}$ 라고 하고 차이 값( $|f_{USB}-f_{LSB}|$ )이 200 [Hz]일 때, 메시지 신호  $m(t)$ 는?

- ①  $10\cos(100\pi t)$   
 ②  $20\cos(200\pi t)$   
 ③  $30\cos(300\pi t)$   
 ④  $40\cos(400\pi t)$

- 문 12. 단위 임펄스 함수  $\delta(t)$ 에 대한 설명으로 옳지 않은 것은?

- ①  $t=0$ 에서만  $\delta(t) \neq 0$ 이다.  
 ②  $\int_{-\infty}^{\infty} x(t)\delta(t)dt = x(0)$ 이다.  
 ③  $\delta(t)$ 를 푸리에 변환하면 상수가 된다.  
 ④  $\int_{-\infty}^{\infty} \delta(t)dt = \infty$ 이다.

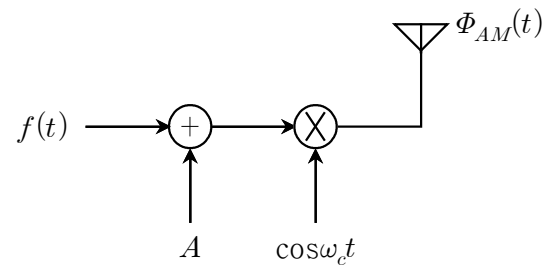
- 문 13. 진폭이 작은 신호에 대해 양자화(quantization) 잡음을 줄이는 방법으로 옳지 않은 것은?

- ① 양자화 비트 수를 늘린다.  
 ② 등화(equalization) 기법을 적용한다.  
 ③ 압신(companding) 기법을 적용한다.  
 ④ 비균일 양자화 기법을 적용한다.

- 문 14. 12[Mbits]의 이미지 파일을 64-QAM으로 변조하여 1 [Msymbols/s]의 심볼률로 전송할 때, 이미지 파일을 모두 전송하는 데 걸리는 시간[s]은?

- ① 1  
 ② 2  
 ③ 3  
 ④ 4

- 문 15. 다음 그림의 AM 변조기에서 입력신호가  $f(t) = B\cos\omega_m t$ 일 때, 변조지수  $m$ 과 전력효율  $\eta$ [%]는? (단,  $A > 0$ ,  $B > 0$ ,  $A \neq B$ ,  $\omega_c \gg \omega_m$ 이다)



- | $\underline{m}$ | $\underline{\eta}$                |
|-----------------|-----------------------------------|
| ① $\frac{B}{A}$ | $\frac{A^2}{2B^2+A^2} \times 100$ |
| ② $\frac{B}{A}$ | $\frac{B^2}{2A^2+B^2} \times 100$ |
| ③ $\frac{A}{B}$ | $\frac{A^2}{2B^2+A^2} \times 100$ |
| ④ $\frac{A}{B}$ | $\frac{B^2}{2A^2+B^2} \times 100$ |

- 문 16. 두 개의 신호  $s_0(t)$ ,  $s_1(t)$ 를 각각 데이터 비트 0, 1에 대응시켜 전송할 때, 발생할 확률이 0.5로 동일하다. 잡음이 없는 경우  $s_0(t)$ 를 전송하면 수신 신호는  $z=a_0=-1$ 이고,  $s_1(t)$ 를 전송하면  $z=a_1=+1$ 이 된다. 잡음이 있는 경우 수신 신호를  $z=a_i+n_0$ 와 같이 표현하고, 필터 출력  $z$ 가 0보다 큰 경우와 작은 경우를 각각 수신된 데이터 비트 1과 0으로 판정할 때, 비트 오류 확률은? (단, 잡음 성분  $n_0$ 는 다음과 같은  $z$ 의 조건부 균일 확률밀도함수(uniform probability density function)를 만들어 내는 랜덤변수이다)

$$f_Z(z|s_0(t) \text{ sent}) = \begin{cases} 1/4, & \text{for } -3 \leq z \leq 1 \\ 0, & \text{otherwise} \end{cases}$$

$$f_Z(z|s_1(t) \text{ sent}) = \begin{cases} 1/4, & \text{for } -1 \leq z \leq 3 \\ 0, & \text{otherwise} \end{cases}$$

- ① 0.1  
 ② 0.2  
 ③ 0.25  
 ④ 0.5

문 17. 디지털 통신의 비트율과 심볼률에 대한 설명으로 옳지 않은 것은?

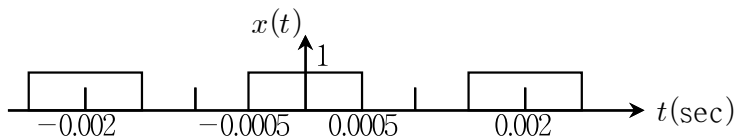
- ① 비트 폭(bit duration)이  $20[\mu s]$ 인 통신 시스템의 비트율은  $50[\text{kbps}]$ 이다.
- ② 어떤 8-PAM 통신에서 메시지 신호의 대역폭이  $3[\text{kHz}]$ 일 때, 이 통신 시스템의 심볼간 간섭(ISI)이 없도록 하는 최소 비트율은  $18[\text{kbps}]$ 이다.
- ③ 한 영문자를 8비트로 표현하여 전송하는 QPSK 통신 시스템에서 초당 2,000개의 영문자를 전송할 때, 이 통신 시스템의 심볼률은  $4,000[\text{symbols/s}]$ 이다.
- ④ 초당 14,400개로 표본화한 신호를 256-단계 균일 양자화(uniform quantization) 방식으로 부호화하여 전송할 때, 이 통신 시스템의 비트율은  $115.2[\text{kbps}]$ 이다.

문 18. 코드분할 다중접속(CDMA) 시스템의 특징으로 옳지 않은 것은?

- ① 사용자 간 PN 코드의 비트열이 상이하므로 통신 보안이 제공된다.
- ② 대역확산 CDMA의 경우 처리 이득(processing gain)을 얻을 수 있다.
- ③ CDMA 신호는 넓은 주파수 대역으로 신호를 확산시켜 전송하므로 협대역 전파 방해에 강하다.
- ④ 피크대평균 전력비(peak-to-average power ratio)가 높아 출력신호가 왜곡된다.

문 19. 그림과 같은 주기 신호  $x(t)$ 가 FM 변조기에 입력될 때, 변조된

신호  $\cos[10000\pi t + 100\pi \int_0^t x(\tau)d\tau]$ 의 최대 주파수 편이[Hz]는?



- ① 25
- ② 50
- ③ 100
- ④ 10,000

문 20.  $X$ 는 송신기에서 전송되는 값이며,  $N$ 은 전송 채널에서 발생하는 가산성 잡음이다. 이때,  $X$ 와  $N$ 은 서로 독립이며, 각각  $-1 \leq X \leq 1$ ,  $-1 \leq N \leq 1$ 의 범위에서 균일 확률밀도함수(uniform probability density function)를 갖는 연속랜덤변수이다. 수신기에서 수신되는 신호가  $Y = X + N$ 일 때,  $Y$ 의 확률밀도함수는?

- ①  $f_Y(y) = \begin{cases} (1+y)/2, & \text{for } -1 < y \leq 0 \\ (1-y)/2, & \text{for } 0 < y \leq 1 \\ 0, & \text{otherwise} \end{cases}$
- ②  $f_Y(y) = \begin{cases} (2+y)/2, & \text{for } -2 < y \leq 0 \\ (2-y)/2, & \text{for } 0 < y \leq 2 \\ 0, & \text{otherwise} \end{cases}$
- ③  $f_Y(y) = \begin{cases} (1+y)/4, & \text{for } -1 < y \leq 0 \\ (1-y)/4, & \text{for } 0 < y \leq 1 \\ 0, & \text{otherwise} \end{cases}$
- ④  $f_Y(y) = \begin{cases} (2+y)/4, & \text{for } -2 < y \leq 0 \\ (2-y)/4, & \text{for } 0 < y \leq 2 \\ 0, & \text{otherwise} \end{cases}$